


Тут _____ круга у _____ колах.

Дія: _____ · _____ = 8



Тут _____ кругів у _____ колах.

Дія: _____ · _____ = 20



Тут _____ трикутники у _____ колах.

Дія: _____ · _____ = 12



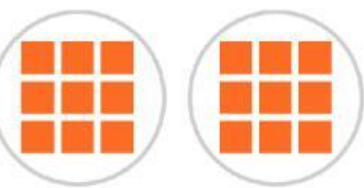
Тут _____ кругів у _____ колах.

Дія: _____ · _____ = 15



Тут _____ квадратів у _____ колах.

Дія: _____ · _____ = 10




Тут _____ квадратів у _____ колах.

Дія: _____ · _____ = 18



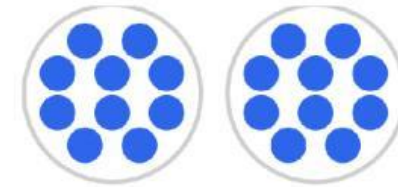
Тут _____ квадратів у _____ колах.

Дія: _____ · _____ = 21



Тут _____ кружки у _____ колах.

Дія: _____ · _____ = 12



Тут _____ кружків у _____ колах.

Дія: _____ · _____ = 20




Тут _____ трикутників у _____ колах.

Дія: _____ · _____ = 30



Тут _____ квадратів у _____ колах.

Дія: _____ · _____ = 24



Тут _____ кружків у _____ колах.

Дія: _____ · _____ = 20