





PHIẾU HỌC TẬP

Bài: Các khu sinh học trên cạn

Hoạt động: Khám phá các khu sinh học theo vĩ độ

Câu 1. Sắp xếp (2 điểm)

Sắp xếp các khu sinh học sau theo thứ tự vùng cực → vùng nhiệt đới:

1. Rừng ôn đới 
2. Đồng rêu hàn đới 
3. Rừng mưa nhiệt đới 
4. Rừng lá kim phương Bắc 

Trả lời:

.....

.....

.....

Câu 2. Nối thông tin (2 điểm)

Khu sinh học	Đặc điểm
1. Rừng mưa nhiệt đới	a. Nóng ẩm, nhiều loài
2. Rừng ôn đới	b. Rất lạnh, ít cây
3. Đồng rêu hàn đới	c. Khí hậu ôn hòa
4. Rừng lá kim	d. Cây lá kim (thông)

Trả lời: 1 - 2 - 3 - 4 -

Câu 3. Vận dụng (1 điểm)

Vi sao rừng mưa nhiệt đới có nhiều sinh vật hơn vùng cực?

?

.....

.....

Kết luận (3 điểm)

Hoàn thành câu: Các đặc tính của mỗi vùng địa lí đã xác định các khác nhau trên cạn, tại đó có những đặc trưng thích nghi phù hợp với điều kiện của khu vực.