

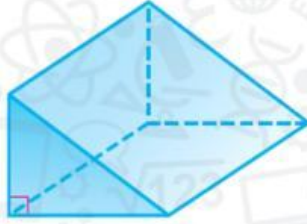
21. صل كل عدد من الوجوه والحواف والرؤوس بالشكل المجسم الصحيح.

الشكل 1

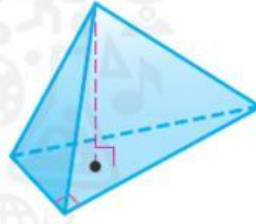
الشكل 2

الشكل 3

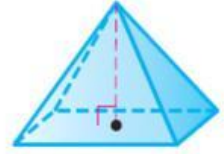
الشكل 3



الشكل 2



الشكل 1



a. 4 وجوه، و 6 حواف، و 4 رؤوس

b. 5 وجوه، و 8 حواف، و 5 رؤوس

c. 5 وجوه، و 9 حواف، و 6 رؤوس