




اسم الطالب :

أكمل جدول المقارنة التالي :

9 - تباعدية	8 - جانبية	7 - تقاربية	6 - شد
5 - قص	4 - ضغط	3 - جانبي	2 - معكوس
			1 - عادي

			
			نوع الصدع
			نوع القوة
			الموقع ( نوع الحدود )