

اسم الفريق:

التقييم وتغذية
راجعة



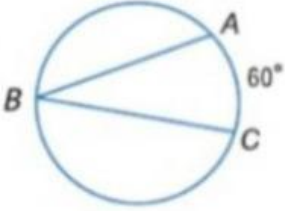
الزوايا المحيطية

تحقق من فهمك

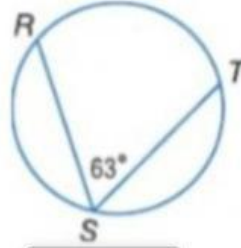
بوابح
التعلم

أوجد قياس كل مما يلي.

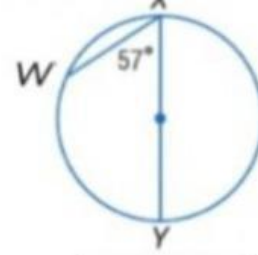
1. $m\angle B$



2. $m\widehat{RT}$



3. $m\widehat{WX}$



LIVEWORKSHEETS

إيجاد قياس الزوايا المحيطية