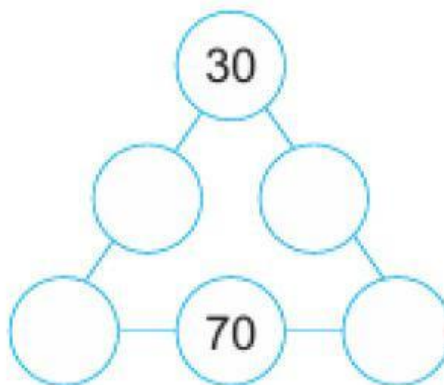


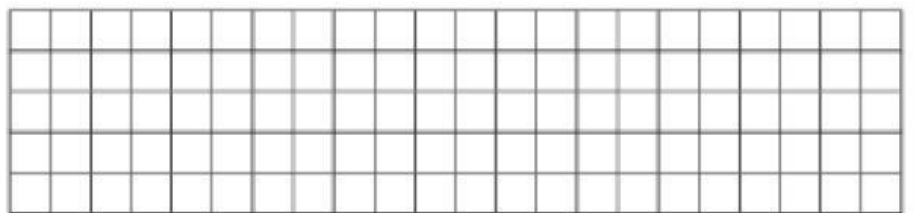
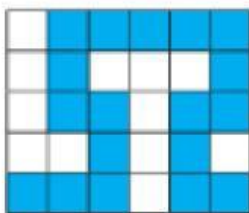
1. Мөр, багана, сумын дагуу нийлбэр 20 байх хос /зэрэгцээ/ тоог дугуйлан тэмдэглэнэ үү.

4	7	1	19	10	11
16	12	10	13	8	9
3	10	0	16	6	14
5	4	2	9	12	10
3	17	15	18	5	8
3	7	13	1	15	2

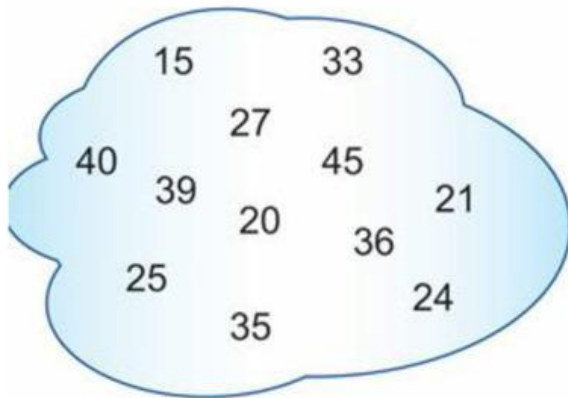
2. Гурвалжны талууд дахь тоонуудын нийлбэр 100 байхаар 10, 20, 50, 60 тоонуудыг байрлуулаарай.



3. Дүрсийг үргэлжлүүлэн хээ үүсгээрэй.




4. Хүснэгтэд тохирох тоонуудыг олоорой.

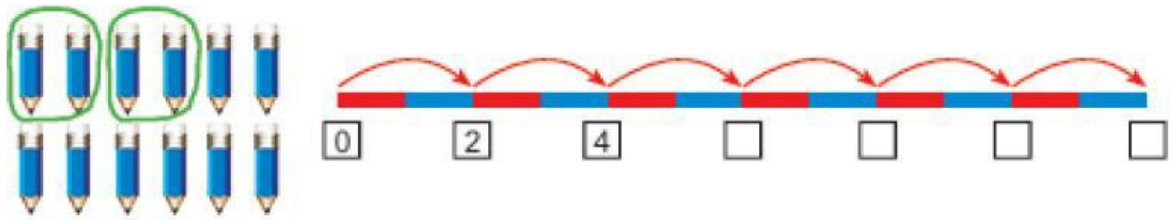


	3-д хуваагддаг	5-д хуваагддаг
30-аас бага		
30-аас бага биш		

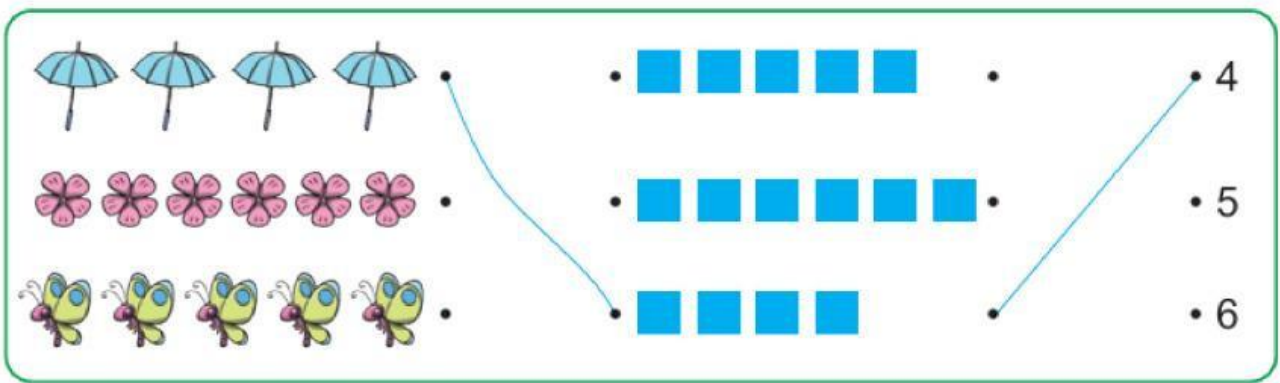
5. Дүрс бүрийг ижил хэлбэртэй нэг зүйлтэй холбоорой.



6. Харандааг хоёр хоёроор нь багцлан тооцоолоод дөрвөлжинд тохирох тоог олоорой.

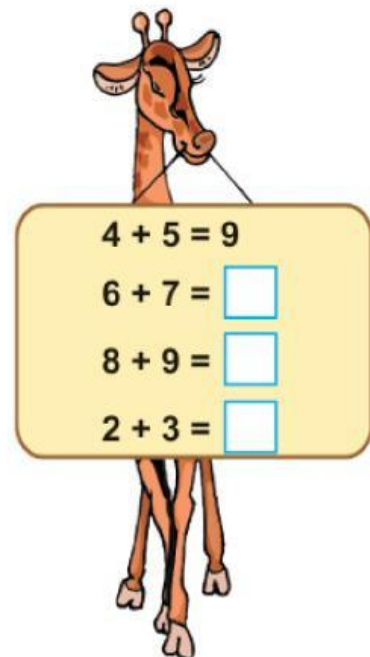


7.



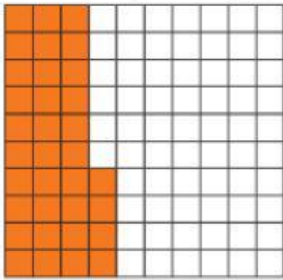
8.

+	1	2	3	4	5	6	7	8	9	10
1										
2										
3										
4					9					
5										
6										
7										
8										
9										
10										

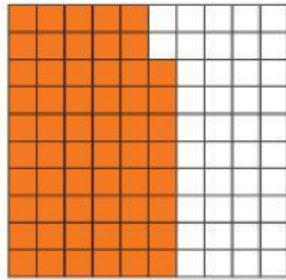


9.

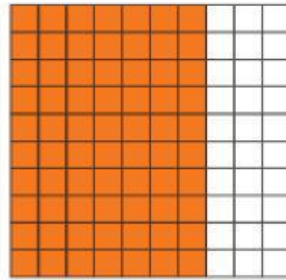
Зөв харгалзуулаарай.



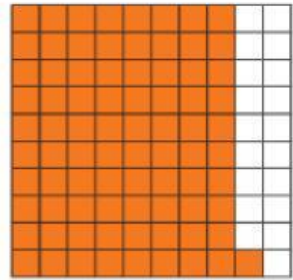
аравт	нэгж
3	4




аравт	нэгж
...	...



аравт	нэгж
...	...



аравт	нэгж
...	...



10.

Хэдэн цаг болж байна вэ?



5 : 00

