

الاسم:

مملكة البحرين
وزارة التربية والتعليم
قسم الرياضيات

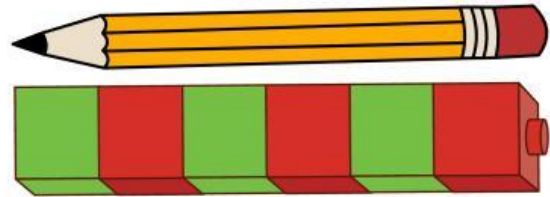


١٠


٢

السؤال الأول: كم مكعبًا  يبلغ طول القلم؟

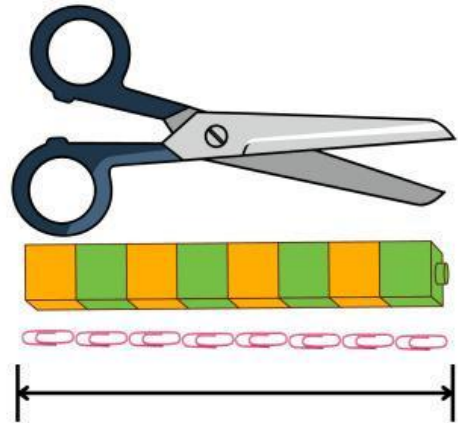
طول القلم مكعب 



٣


السؤال الثاني: كم مشبكًا ورقيًا  يبلغ طول المقص؟

طول المقص مشبك ورقي 



٥

السؤال الثالث: لدى محسن ثلاث أوراق نقدية من فئة ٥ دنانير، فإذا أراد أن يشتري ٤ عطور، وكان سعر العطر الواحد ٤ دنانير. فهل تكفي النقود التي معه؟ فسّر إجابتك مستعملًا الشبكة.



طول القلم مشبك ورقي 