



LKPD ELEKTRONIK

ILMU PENGETAHUAN ALAM DAN SOSIAL

Materi: Panca Indra Manusia



Nama: _____

Kelas: _____

OKTA LESTARI

DHARA ATIKA PUTRI, M.Pd

SUCI RAHMA PUTRI, M.Pd

LIVEWORKSHEETS



Tujuan Pembelajaran



1

Peserta didik dapat menjelaskan
5 panca indra manusia dan
fungsinya



2

Peserta didik dapat
mengidentifikasi organ indra
melalui gambar atau benda
nyata



PETUNJUK PENGUNAAN

1

Sebelum ananda mengerjakan soal berikut, tulis nama dan kelas pada kolom yang disediakan

2

Selanjutnya ananda memahami bacaan materi pembelajaran

3

Jawablah pertanyaan berikut dengan tepat dan benar sesuai perintah soal

4

Tanyakan kepada guru ketika ananda merasa bingung dan kesulitan


5

Setelah selesai mengerjakan soal, klik "Finish",



MATERI

Mengenali Panca Indra Pada Manusia





S PANGKA INDRA MANUSIA



Mata



(Indra Penglihatan)

Fungsi: Melihat bentuk, warna, dan gerakan di sekitar kita.

Telinga



(Indra Pendengaran)

Fungsi: Mendengar suara, nada, dan musik.

Hidung



(Indra Penciuman)

Fungsi: Mencium aroma dan bau.

Lidah



(Indra Perasa)

Fungsi: Merasakan rasa manis, asin, asam, dan pahit.

Kulit



(Indra Peraba)

Fungsi: Merasakan sentuhan, panas, dingin, dan rasa sakit.





Agar lebih semangat lagi belajarnya dan memudahkan untuk menghafal 5 panca indra, yuk simak dan nyanyikan bersama Lagu Panca Indra



KLIK DISINI!!!

Sintaks 1: Orientasi peserta didik terhadap masalah



Gaza sedang bermain game di ruang tamu. Agar permainan terasa lebih seru, Budi menggunakan headphone dengan suara yang cukup keras. Ia pun menjadi sangat fokus dan tidak memperhatikan keadaan di sekitarnya. Ibunya sudah memanggil beberapa kali, tetapi Gaza tidak mendengarnya.

Pertanyaan:

Alat indra apa yang digunakan untuk mendengar?



Sintaks 2: Mengorganisasikan Peserta Didik Untuk Belajar

Fungsi Panca Indra Manusia

Hubungkan panca indra manusia dengan fungsinya.



Melihat



Mencium



Mendengar



Meraba



Mengecap

Sintaks 3: Membimbing Penyelidikan Individu dan Kelompok

Tentukan benar atau salah pada pernyataan berikut.

Pernyataan



Mata digunakan untuk melihat



Telinga untuk mencium bau



Lidah untuk merasakan rasa



Kulit untuk merasakan sentuhan



Sintaks 4: Mengembangkan dan menyajikan hasil karya

MENEBAK PANCA INDERA

Tarik gambar alat indra di kotak yang sesuai.



Cika menggunakan indra apa untuk merasakan manis pada permen ?



Dika menggunakan indra apa untuk mendengarkan suara musik ?



Doni menggunakan indra apa untuk melihat pemandangan?



Ibu menggunakan indra apa untuk meraba meja yang halus ?



Santi menggunakan indra apa untuk mencium wangi bunga mawar ?



Telinga



Lidah



Hidung



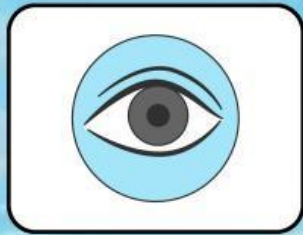
Mata



Kulit

Sintaks 5: Menganalisis dan Mengevaluasi Proses Pemecahan Masalah

Pilihlah jawaban yang benar pada soal berikut ini dengan cara mengklik pada huruf a,b,c, dan d pada lembar jawaban ini!



Gambar di samping merupakan panca indra apa?

- a. Penglihat
- b. Peraba
- c. Perasa
- d. Pendengar



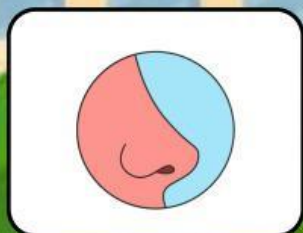
Gambar di samping merupakan panca indra apa?

- a. Pencium
- b. Peraba
- c. Pendengar
- d. Penglihat



Gambar di samping merupakan panca indra apa?

- a. Perasa
- b. Pencium
- c. Peraba
- d. Pendengar



Gambar di samping merupakan panca indra apa?

- a. Pencium
- b. Peraba
- c. Pendengar
- d. Penglihat



Gambar di samping merupakan panca indra apa?

- a. Penglihat
- b. Peraba
- c. Perasa
- d. Pendengar