
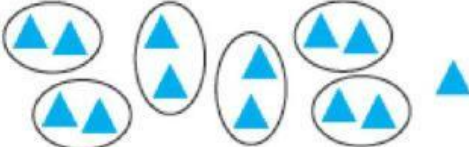




1. “Үлдэгдэлтэй хуваах” Зураглалд тохирсон бичиглэл хийгээрэй.

а.  б. 

$\square \times \square + \square = \square$        $\square \times \square + \square = \square$   
 $\square \div \square = \square$  үлд  $\square$        $\square \div \square = \square$  үлд  $\square$

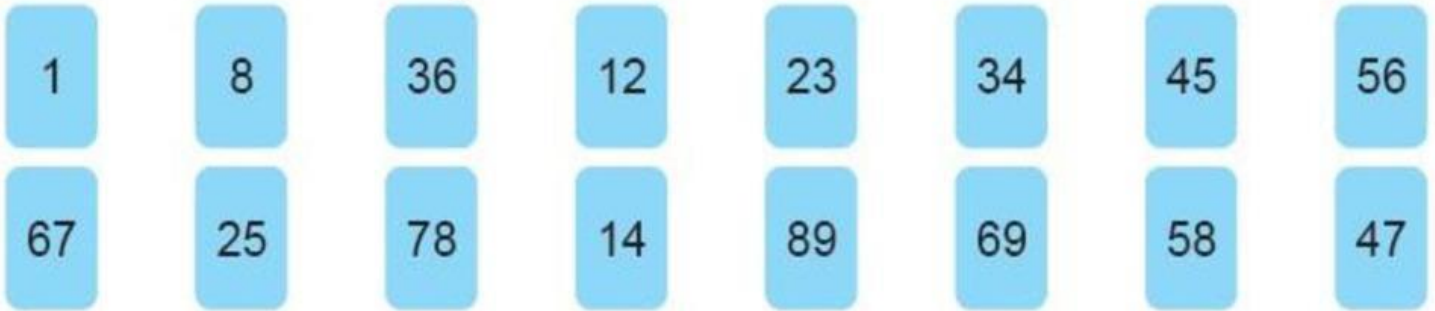
в.  г. 

$\square \div \square = \square$  үлд  $\square$        $\square \div \square = \square$  үлд  $\square$

2. Хүснэгтийг гүйцээж бичээрэй.

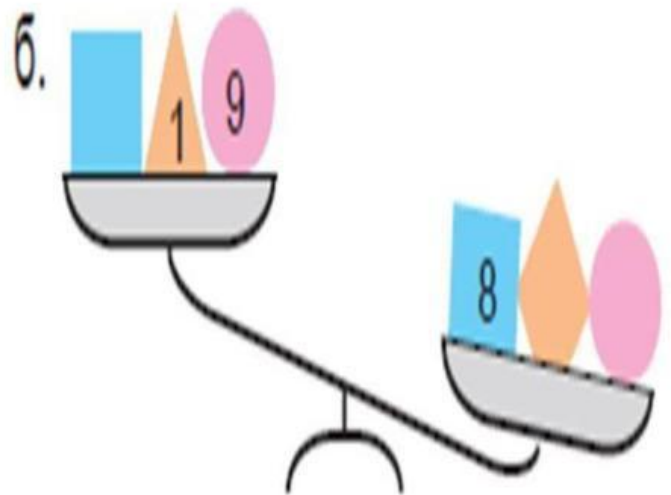
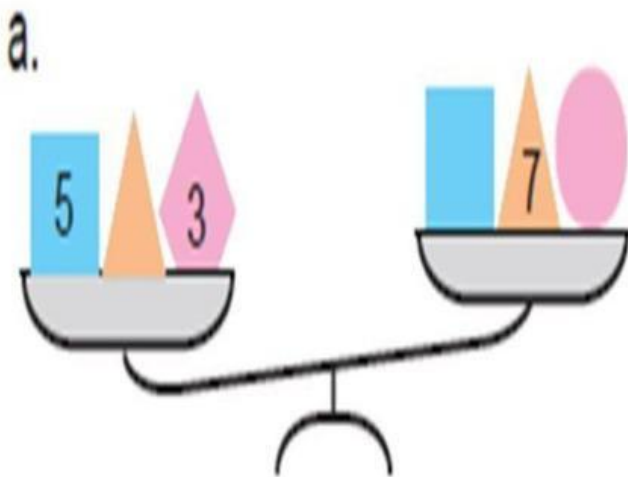
Зуут	Аравт	Нэгж	Бичих	Унших
1	2	7	127	Нэг зуун хорин долоо
3	0	8		Гурван зуун найм
			496	
				Найман зуун арван гурав

3. 50-аас их тоо 50-аас бага тоог ангилж оруулан уу?



50-аас бага	50-аас их
<div style="border: 1px solid black; padding: 5px; display: inline-block;">1</div> ...	<div style="border: 1px solid black; padding: 5px; display: inline-block;">56</div> ...

4. Зургийг ажиглаад , тохирох тоог олоорой. Ижил дүрс нь ижил тоо байна.



5. Цагийг уншаад , хоосон зайг нөхөж бичээрэй .

			
10 цагаас ... минут өнгөрч байна.	3 цагаас ... минут өнгөрч байна.	1 цагаас ... минут өнгөрч байна.	8 цагаас ... минут өнгөрч байна.
11 цаг болоход ... минут дутуу байна.	4 цаг болоход ... минут дутуу байна.	2 цаг болоход ... минут дутуу байна.	9 цаг болоход ... минут дутуу байна.

6. Тохирох тоог нөхөөрэй.

× 9	
7	63
4	
	72
9	

÷ 9	
81	9
63	
	5
27	

7. Нэмэх хасах үйлдлийг гүйцэтгээрэй.



$$14 + 8 = (14 + 6) + 2 = 22$$

б. Нэмэх үйлдлийг гүйцэтгээрэй.



$$17 + \square = \square$$



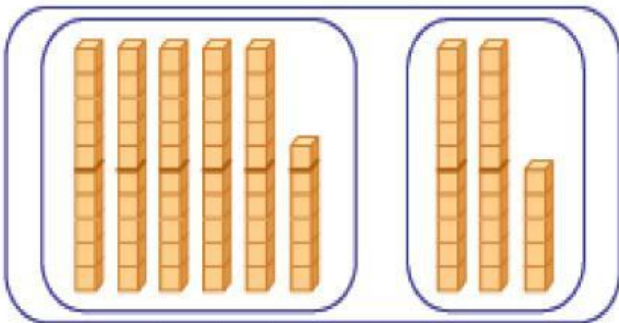
$$24 - 9 = (20 - 9) + 4 = 15$$

б. Хасах үйлдлийг гүйцэтгээрэй.

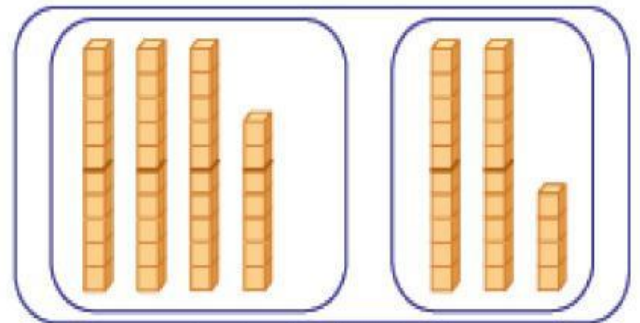


$$36 - \square = \square$$

8. Шоон загвараар дүрсэлсэн тоонуудын нийлбэрийг олоорой.

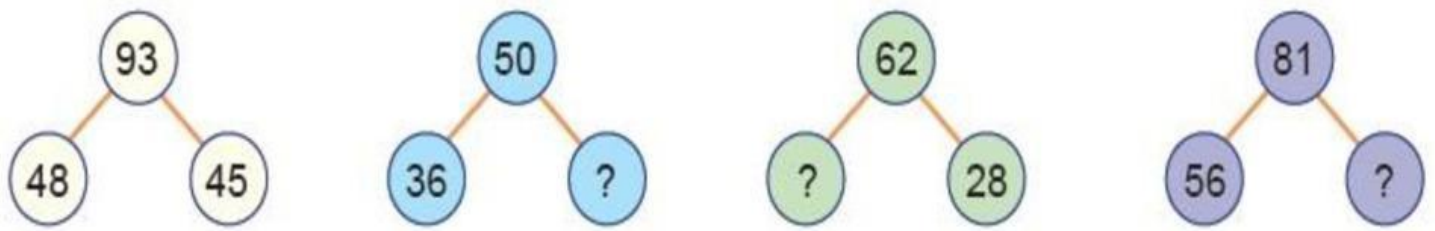


$$\square + \square = \square$$



$$\square + \square = \square$$

9. Асуултын тэмдгийн оронд тохирох тоог бичээрэй



10, Асуултын тэмдгийн оронд тохирох тоог бичээрэй

