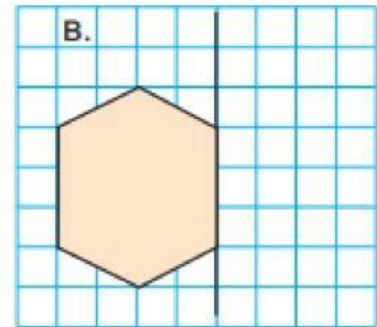
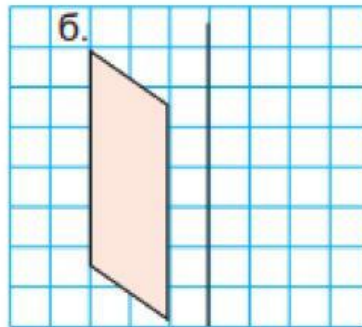
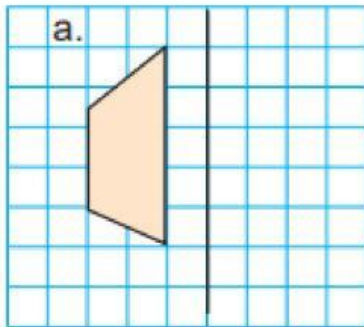


4-р ангийн дасгал ажил

1. Мэдэгдэхгүй байгаа гишүүнийг ол.

Нэмэгдэхүүн	85 091	77 841		5 506	
Нэмэгдэхүүн		56 788	56 743	342 100	
Нийлбэрийн утга	422 067		110 009		100 000

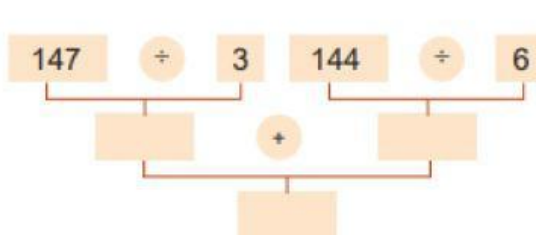
2. Шулууны хувьд тэгш хэмтэй байгуулаарай.



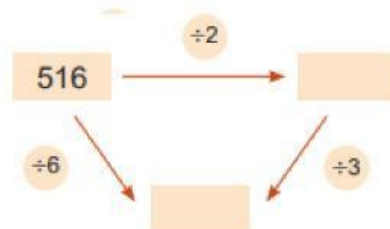
3. 3-д хуваагдах тоог олоорой.

×	1	2	3	4	5	6	7	8	9	10
1	1	2	3	4	5	6	7	8	9	10
2	2	4	6	8	10	12	14	16	18	20
3	3	6	9	12	15	18	21	24	27	30
4	4	8	12	16	20	24	28	32	36	40
5	5	10	15	20	25	30	35	40	45	50
6	6	12	18	24	30	36	42	48	54	60
7	7	14	21	28	35	42	49	56	63	70
8	8	16	24	32	40	48	56	64	72	80
9	9	18	27	36	45	54	63	72	81	90
10	10	20	30	40	50	60	70	80	90	100

4. Тоог нөхөж бич.



б.



5. Нийлбэр нь 100 байхаар мөр, багана, диагональд орших 2 тоог олж, дараах байдлаар хүрээлээрэй..

28	82	81	19	91	18	82	18	100
15	72	56	81	19	75	12	28	72
82	18	34	29	71	30	25	60	65
28	72	66	54	39	70	40	75	35

6. 2100 төгрөгд тааруулж доорх зүйлсээс авна. Сонгож доорх хүснэгтэд зөөнө үү?



500 төг



1200 төг



200 төг



700 төг



400 төг

--

7. Мэдэгдэхгүй байгаа гишүүнийг ол.

$$\text{Paw Print} \times 15 = 1170$$

$$9360 \div \text{Paw Print} = 4$$

$$7 \times \text{Paw Print} = 1449$$

$$\text{Paw Print} \div 6789 = 19$$

$$\text{Paw Print} \div 45 = 45$$

8. Нэг савх хөдөлгөн зөв тэнцэтгэл болгоорой.

$$24 + 36 = 58$$

9. Тохирох шинжид нь зөөж тавиарай.

1, 2, 3, 4, 5, 6, 7, 8, 9, 10, 11, 12, 13, 14, 15, 16, 17, 18, 19, 20, 21, 22, 23, 24, 25, 26, 27, 28, 29, 30	Хуваагдах шинж	Тэгш	Сондгой
	5, 10 тоонуудад хуваагддаг тоонууд		
	5, 10 тоонуудад хуваагддаггүй тоонууд		

10. Зүй тогтлыг ажиглаж, гүйцээгээрэй.

