

Заняття № 29 «Число і цифра 9. Утворення числа 9»


Вправа «У цирку»



Скільки всього артистів у цирку? Порахуй їх від першого до останнього, а також навпаки
Хто виступав першим, останнім? Хто виступав за мавпою?
Яким за порядком був тигр?

Вправа «Фокусник»

Скільки було кілець у фокусника?
Зафарбуйте стільки ж у себе синім олівцем.



Скільки кілець додалося? Зафарбуйте зеленим
Скільки всього кілець? Як отримали число 7?

Покажіть за допомогою кольорів, як утворилося число 8.




Як утворюється кожне наступне число в ряді чисел?
Запишіть це цифрами та знаками

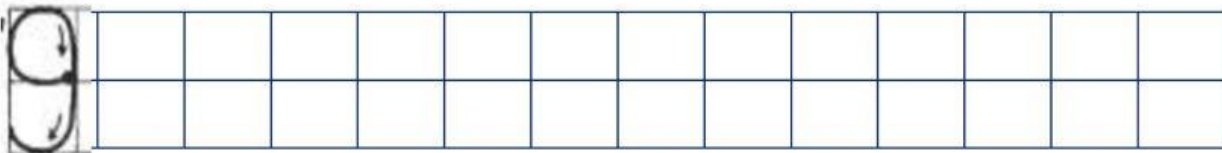
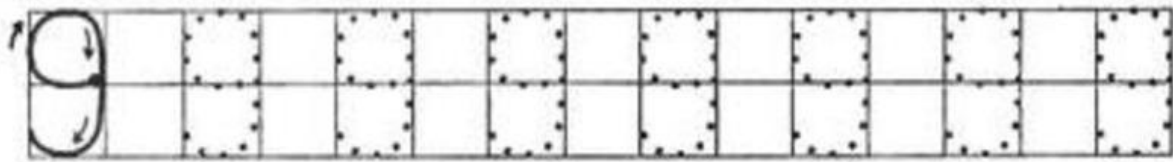

6				
---	--	--	--	--

Зафарбуй ракети з цифрою 9.

Знайди цифру 9



Зафарбуй стільки ракет скільки показує цифра



Скільки тут гусениць? Домалуй кружечки так, щоб у кожній гусениці стало по 9 частинок

