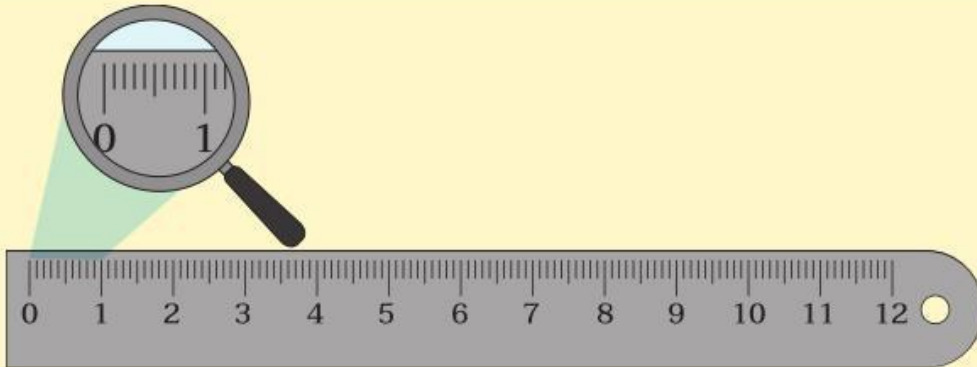


9.1 การวัดความยาวเป็นเซนติเมตรและมิลลิเมตร



พัฒนาความรู้



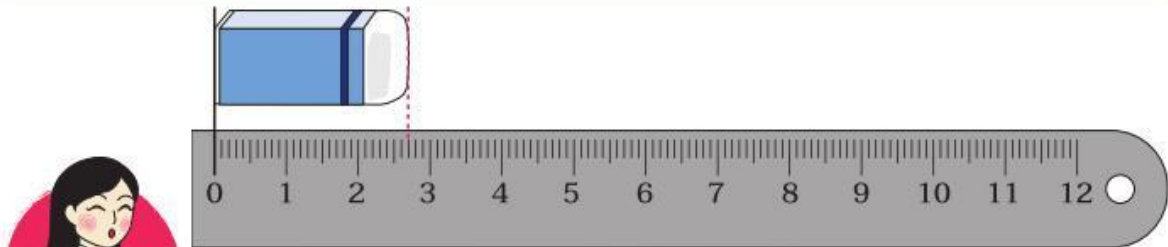
ความยาว 1 เซนติเมตร แบ่งเป็น 10 ช่องเท่า ๆ กัน

แต่ละช่องยาว 1 มิลลิเมตร

ความยาว 10 มิลลิเมตร เท่ากับความยาว 1 เซนติเมตร

เซนติเมตร ใช้ตัวย่อ ซม.

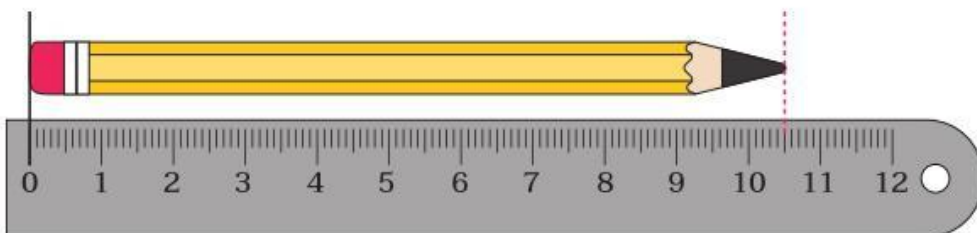
มิลลิเมตร ใช้ตัวย่อ มม.



ยางลบยาว 2 เซนติเมตร 7 มิลลิเมตร



บอกความยาวของดินสอ

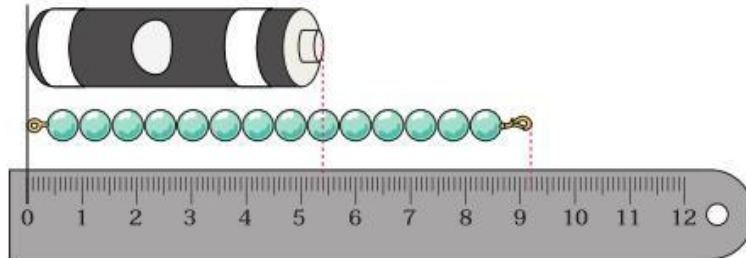




ตรวจสอบความเข้าใจ

1

บอกความยาวของถ่านไฟฉายและสร้อยข้อมือเป็นเซนติเมตรและมิลลิเมตร



2

บอกความสูงของขวดซอสและกระป๋องแป้งเป็นเซนติเมตรและมิลลิเมตร



สิ่งที่ได้เรียนรู้

- การบอกความยาวหรือความสูงของสิ่งต่าง ๆ อาจบอกเป็นเซนติเมตรและมิลลิเมตร
- ความยาว 10 มิลลิเมตร เท่ากับ ความยาว 1 เซนติเมตร



แบบฝึกหัด 9.1