

Lembar Kerja Peserta Didik

LKPD

Sistem Tata Surya

Nama : _____

Kelas : _____





**Isilah kotak kosong di bawah ini dengan
nama planet yang benar!**







Guntinglah gambar planet di bawah ini dan susunlah berdasarkan jaraknya terhadap matahari.









Tuliskan karakteristik planet di bawah ini dengan benar!



No.	Nama Planet	Karakteristik
1.	 _____	Warna : Jumlah Satelit : Nama Satelit : Kala Rotasi : Kala Revolusi :
2.	 _____	Warna : Jumlah Satelit : Nama Satelit : Kala Rotasi : Kala Revolusi :
3.	 _____	Warna : Jumlah Satelit : Nama Satelit : Kala Rotasi : Kala Revolusi :
4.	 _____	Warna : Jumlah Satelit : Nama Satelit : Kala Rotasi : Kala Revolusi :



No.	Nama Planet	Karakteristik
5.	 _____	Warna : Jumlah Satelit : Nama Satelit : Kala Rotasi : Kala Revolusi :
6.	 _____	Warna : Jumlah Satelit : Nama Satelit : Kala Rotasi : Kala Revolusi :
7.	 _____	Warna : Jumlah Satelit : Nama Satelit : Kala Rotasi : Kala Revolusi :
8.	 _____	Warna : Jumlah Satelit : Nama Satelit : Kala Rotasi : Kala Revolusi :