

LEMBAR KERJA PESERTA DIDIK (LKPD)

Nama Kelompok :

Anggota :

1. Diketahui titik A (2,3) akan dicerminkan, tentukan bayangan dari titik A apabila dicerminkan sebagai berikut:

SUMBU X

(-2,3)

SUMBU Y

(3,2)

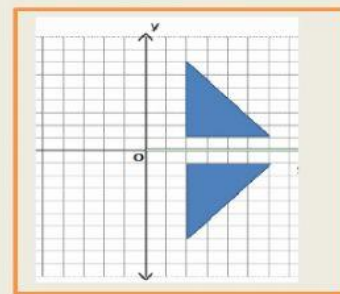
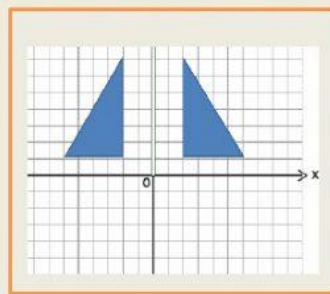
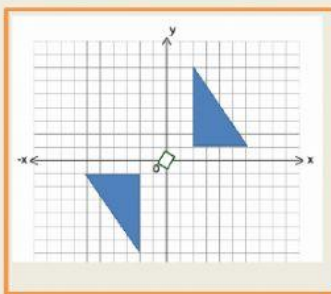
GARIS $y = x$

(2,-3)


GARIS $y = -x$

(-3,-2)

2. Geser dan lepas gambar bangun berikut pada kotak yang telah disediakan dengan benar!



Pencerminan terhadap sumbu x



Pencerminan terhadap sumbu y



Pencerminan terhadap titik pusat (0,0)

