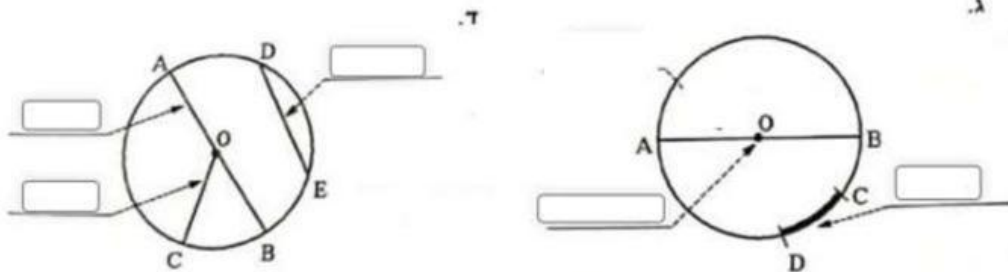


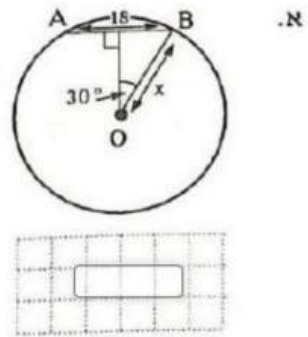
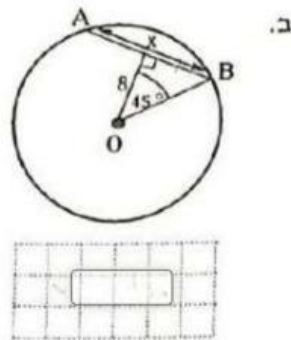
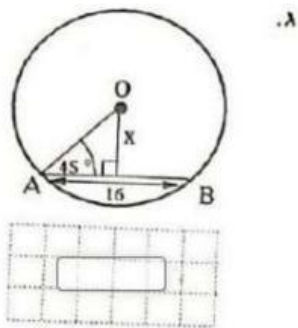
# דף אינטראקטיבי בנושא מעגל ועיגול

גררו את שמות החלקים של המעגל למקום המתאים



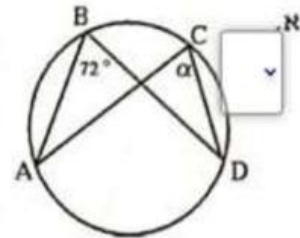
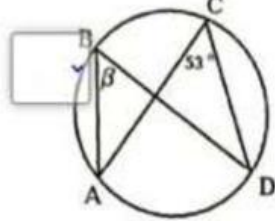
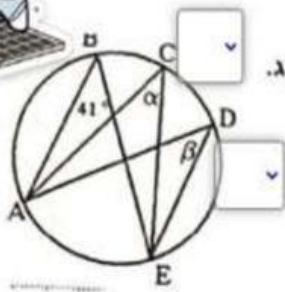
- קשת
- מיתר
- רדיוס
- קוטר
- מרכז המעגל

מצאו את  $x$  בתרגילים הבאים. הנקודה המודגשת היא מרכז המעגל.

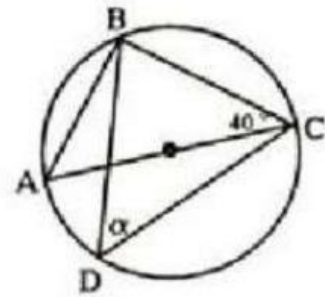




מצאו את  $\alpha$  ו- $\beta$ . בחרו תשיבה נכונה בכל שאלה.



מצאו את  $\alpha$ , אם ידוע כי AC הוא קוטר המעגל



$\alpha = 40^\circ$

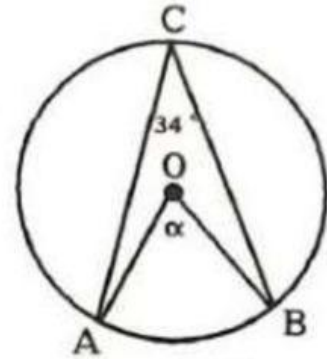
$\alpha = 50^\circ$

$\alpha = 25^\circ$

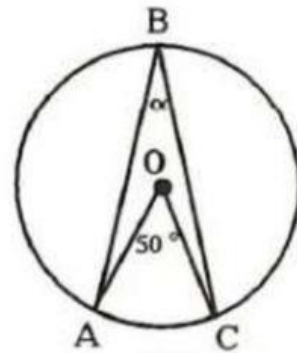
$\alpha = 20^\circ$

מצאו את  $\alpha$  בתרגילים הבאים. מתחו קו לתשובה המתאימה.

$$\alpha = 25^\circ$$



$$\alpha = 68^\circ$$



$$\alpha = 60^\circ$$

