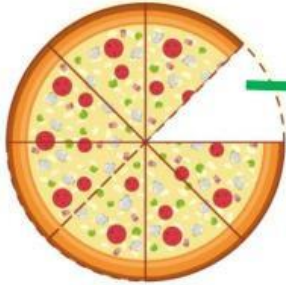


Câu 1: Em hãy cho biết phân số biểu thị phần bánh pizza bị lấy đi




—

Câu 2: Em hãy cho biết phân số chỉ số phần được tô màu là



—

Câu 3: Em hãy nêu tử số và mẫu số của phân số sau:




$$\frac{2}{6}$$

→ Tử số:.....

→ Mẫu số:.....

Câu 4: Em hãy nêu tử số và mẫu số của phân số sau:



1

→ Tử số:.....

6

→ Mẫu số:.....