

## LOS NÚMEROS DEL 900 AL 999

### ACTIVIDAD 1. ESCRIBE LOS NÚMEROS

novecientos siete →

novecientos treinta y uno →

novecientos sesenta y ocho →

novecientos noventa →

$9C + 36U$  →

$9C + 7D + 4U$  →

$8C + 105U$  →

$9C + 8U$  →

### ACTIVIDAD 2. ELIGE EL SIGNO ADECUADO: > o <

901

900

914

941

978

987

905

950

943

934

930

903

956







958


926


962


### ACTIVIDAD 3. DESCOMPÓN EL NÚMERO 951 Y AVERIGUA QUÉ REPRESENTA CADA CÍRCULO.


951


C	D	U
9	4	
	5	1
9		1
	60	51
8	13	
6		51


 →  U

 →

 →  D

 →  C

 →  U

 →  D

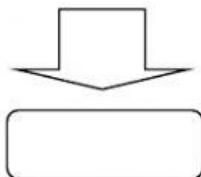
**ACTIVIDAD 4. COMPLETA CON NÚMEROS ANTERIORES Y POSTERIORES.**

929	930	931
		949
950		
969		
	980	
		999
	950	

**ACTIVIDAD 5. LEE LAS ADIVINANZAS Y ELIGE DE ESTOS NÚMEROS CUÁL SERÍA LA RESPUESTA CORRECTA.**

890	695	763	675	756	956
-----	-----	-----	-----	-----	-----

- Es mayor que 680 y menor que 860.
- Tiene un 6 en la cifra de las unidades.



- Es mayor que 700.
- Es un número par.
- Tiene un 9 en la cifra de las centenas.

