

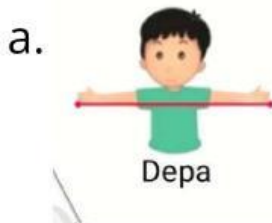
Nama :
Kelas :
Hari/Tanggal :



Soal Matematika

I. Berilah tanda silang (x) huruf a, b, atau c pada jawaban yang paling benar!

1. Berikut ini yang merupakan satuan tidak baku adalah....



2. Gambar di bawah ini adalah contoh pengukuran menggunakan.....




- a. Langkah
- b. Jengkal
- c. Depa

3. Pengukuran dengan menggunakan jarak antara kedua tangan yang direntangkan disebut.....


- a. Langkah
- b. Jengkal
- c. Depa

4. Panjang papan tulis adalah depa

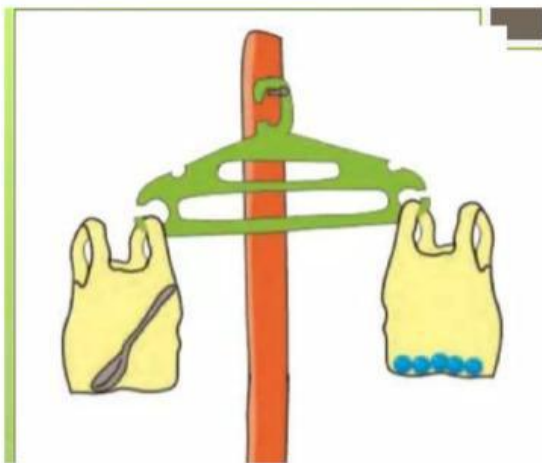


- a. 1 depa
- b. 2 depa
- c. 3 depa

5. Berikut merupakan hasil pengukuran benda menggunakan jengkal. Coba urutkan panjang ketiga benda tersebut mulai dari yang terpanjang ke yang terpendek!



- a. jendela, papan tulis, meja
- b. meja, papan tulis, jendela
- c. meja, jendela, papan tulis



6. Berat sendok dalam kantong plastik adalah..... kelereng
- a. 5 kelereng
 - b. 4 kelereng
 - c. 3 kelereng

Untuk nomor 8, 9 dan 10 perhatikan tabel berikut!

Nama Benda	Hasil timbangan
boneka	10 butir kelereng
sebuah sandal	9 butir kelereng
buku cerita	7 butir kelereng

8. Berapakah berat sandal?
- a. 10 kelereng
 - b. 9 kelereng
 - c. 7 kelereng

Nama Benda	Hasil timbangan
boneka	10 butir kelereng
sebuah sandal	9 butir kelereng
buku cerita	7 butir kelereng

9. Manakah benda yang paling ringan?

- a. buku cerita
- b. sandal
- c. boneka

10. Urutkan ketiga benda tersebut dari yang paling ringan ke yang paling berat!

- a. buku cerita, boneka, sandal
- b. boneka, sandal, buku cerita
- c. buku cerita, sandal, boneka

11. Mencuci tangan membutuhkan waktu yang.....

- a. lama
- b. sebentar
- c. sangat lama

12. mama menyetrika baju yang menumpuk.
maka waktu yang dibutuhkan adalah.....

- a. lama
- b. sebentar
- c. singkat

Perhatikan gambar-gambar berikut untuk nomor 13 dan 14!



13. kegiatan yang memerlukan waktu sebentar adalah....

- a. memakai sepatu
- b. tidur
- c. belajar

14. Kegiatan yang memerlukan waktu lama adalah...

- a. menggosok gigi
- b. memakai kaos kaki
- c. tidur

15. Paman mencuci motor selama 10 menit, setelah itu ia mencuci sepatu selama 8 menit kemudian paman makan siang selama 15 menit. Kegiatan paman yang manakah yang memerlukan waktu paling singkat?

- a. mencuci motor
- b. makan siang
- c. mencuci sepatu

Pertama, Beni menimbang dengan penggaris.
Beni menimbang alat tulis dengan kelereng.
Inilah hasil timbangannya.

No.	Nama Benda	Hasil timbangan
1.	buku tulis	5 butir kelereng
2.	tempat pensil	8 butir kelereng
3.	buku gambar	7 butir kelereng

Kemudian, jawablah pertanyaan berikut.

1. Benda manakah yang paling berat?

2. Benda manakah yang paling ringan?

3. Urutkan benda pada tabel di atas.
 - a. Urutkan benda dari yang paling ringan.

 - b. Urutkan benda dari yang paling berat.

No.	Nama Benda	Hasil timbangan
1.	sendok aluminium	2 buku tulis
2.	gelas plastik	1 buku tulis
3.	piring plastik	4 buku tulis

Kemudian, jawablah pertanyaan berikut.

1. Benda manakah yang paling berat?

2. Benda manakah yang paling ringan?

3. Urutkan benda pada tabel di atas.
 - a. Urutkan benda dari yang paling ringan.

 - b. Urutkan benda dari yang paling berat.

Sebutkan 3 kegiatan yang memerlukan waktu sebentar dan 3 kegiatan yang memerlukan waktu lama!

1.	
2.	
3.	

1.	
2.	
3.	

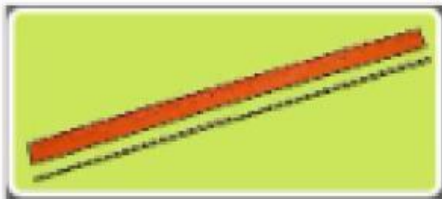
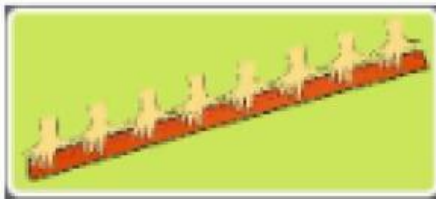
1. Berapa panjang ikat pinggangmu?



panjang ikat pinggangmu = pensil

panjang ikat pinggangmu = jengkal

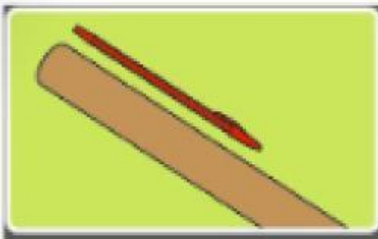
2. Berapa panjang penggaris kayu Bu Guru?



panjang penggaris kayu = jengkal

panjang penggaris kayu = batang lidi


3. Berapa panjang tongkat pramuka?



panjang tongkat pramuka = pulpen

panjang tongkat pramuka = jengkalmu

4. Berapa panjang lengan kirimu?



panjang lengan kirimu = jengkalmu

panjang lengan kirimu = pulpen

5. Berapa panjang tali sepatu?



panjang tali sepatu = jengkalmu

panjang tali sepatu = batang korek api