


NON È MAGIA...



Riuscirà il prestigiatore a pescare ogni volta una carta con l'asso?


1 Osserva le carte su ogni banco e colora il cartellino con la risposta esatta.



è certo

è possibile


è impossibile



è certo

è possibile


è impossibile



è certo

è possibile


è impossibile



è certo

è possibile

è impossibile



è certo

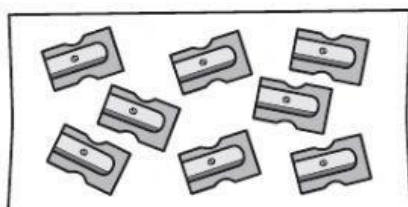
è possibile

è impossibile


PESCARRE ALLA CIECA

1 Devi prendere a occhi chiusi un **temperino grigio**.


Osserva ogni situazione e indica l'espressione corrispondente con una **X**.



- ☐ è certo
☐ è possibile
☐ è impossibile



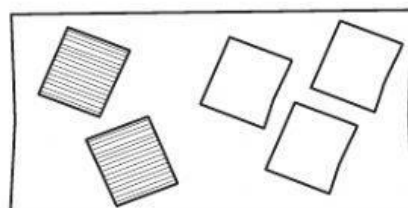
- ☐ è certo
☐ è possibile
☐ è impossibile



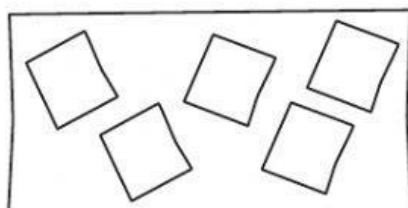
- ☐ è certo
☐ è possibile
☐ è impossibile

2 Devi prendere a occhi chiusi un **foglio a righe**.

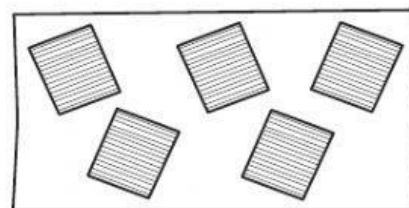
Osserva ogni situazione e indica l'espressione corrispondente con una **X**.



- ☐ è certo
☐ è possibile
☐ è impossibile




- ☐ è certo
☐ è possibile
☐ è impossibile




- ☐ è certo
☐ è possibile
☐ è impossibile

3 Devi prendere a occhi chiusi un'etichetta con il fiore.


Osserva ogni situazione e indica l'espressione corrispondente con una **X**.



- ☐ è certo
☐ è possibile
☐ è impossibile



- ☐ è certo
☐ è possibile
☐ è impossibile

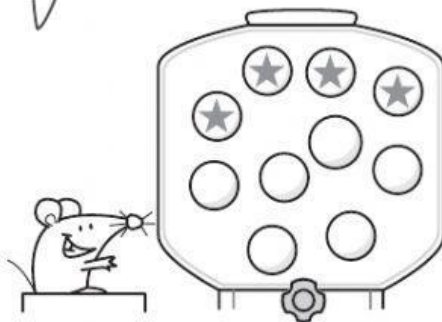


- ☐ è certo
☐ è possibile
☐ è impossibile

BIGLIE A CONFRONTO

1 Osserva ogni situazione, leggi e completa.

È più probabile vincere una biglia con la stella o una biglia senza stella?



10 biglie in tutto

4 biglie con la stella

6 biglie senza stella

4 possibilità su 10 di vincere una biglia con la stella

6 possibilità su 10 di vincere una biglia senza stella

Quindi... È più probabile vincere una biglia stella.

È più probabile vincere una biglia con una figura o una biglia con un numero?



..... biglie in tutto

..... biglie con una figura

..... biglie con un numero

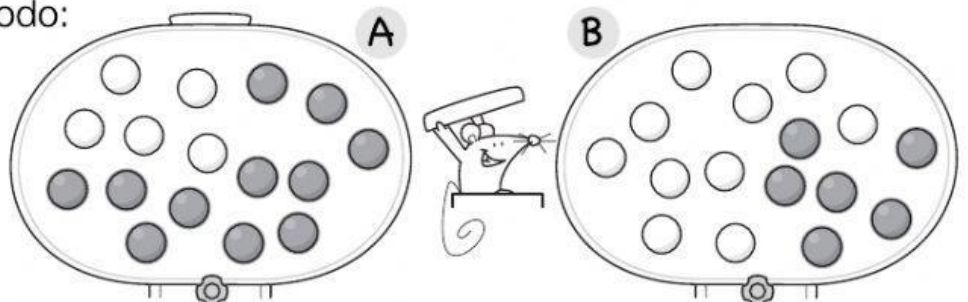
..... possibilità su di vincere una biglia con una figura

..... possibilità su di vincere una biglia con un numero

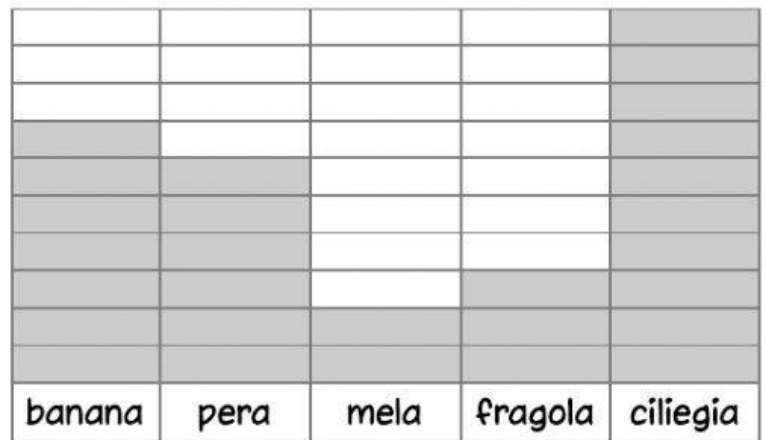
Quindi... È più probabile vincere una biglia

Sul quaderno

- Procedi allo stesso modo: indica ogni volta se è più probabile vincere una biglia bianca o una biglia grigia.



Claudia vuole sapere qual è il **tipo di frutto preferito** dai suoi compagni, così raccoglie i dati e li rappresenta con l'**istogramma**.

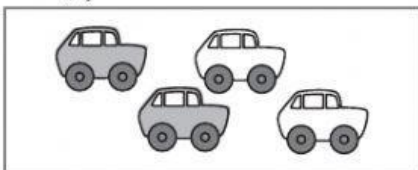


- 1** Osserva il grafico e completa.
- Claudia ha intervistato in tutto compagni.
 - Il tipo di frutto preferito dai compagni di Claudia, cioè il dato che indica la **moda**, è


1 Leggi, osserva ogni situazione e completa con **certo**, **possibile** o **impossibile**.




Devo prendere a occhi chiusi un'automobilina grigia.



E



E





Devo prendere a occhi chiusi una spilla con il fiore.



F.....



F.....

