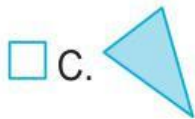


D8. Osserva il disegno.



Qual è il pezzo mancante?



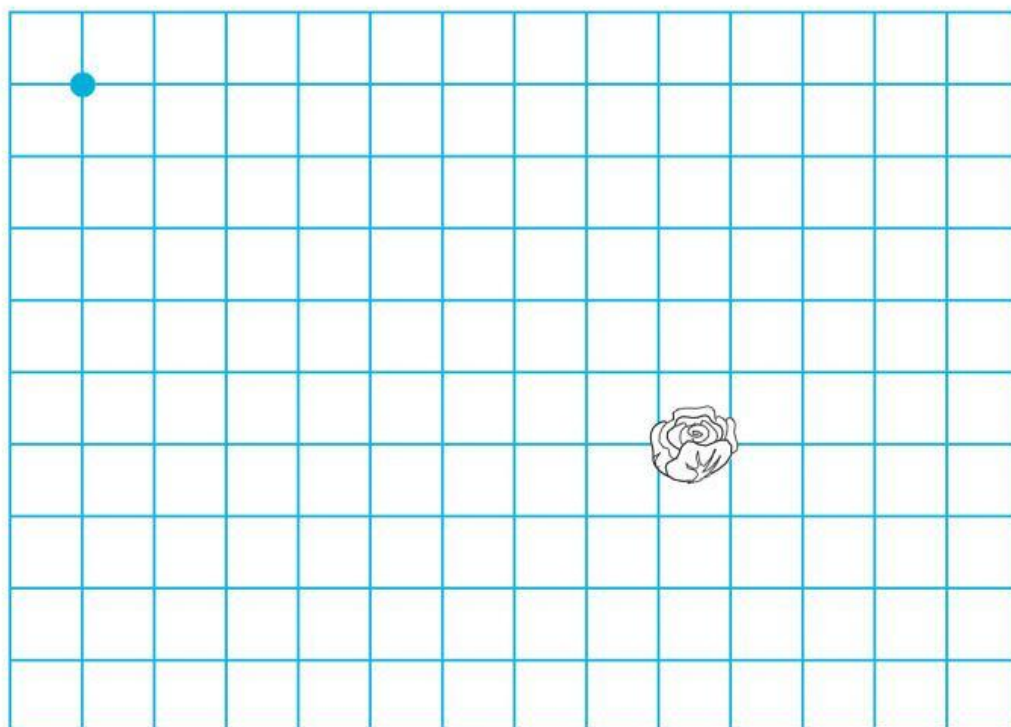
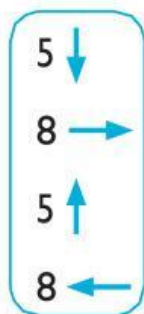

D9. Leggi il problema.

“A Maria mancano 32 pagine per finire di leggere il libro che ha preso in biblioteca. Se il libro ha 45 pagine in tutto quante pagine ha già letto Maria?”

Quale operazione devi usare per risolvere il problema?

- ☐ A. $32+45$
☐ B. $45-32$
☐ C. $32-45$

Segui le indicazioni delle frecce e immagina di disegnare il percorso fatto dalla pecora per raggiungere l'insalata e tornare indietro.



Quale figura hai ottenuto?

- ☐ A. Un quadrato
- ☐ B. Un rettangolo
- ☐ C. Un triangolo

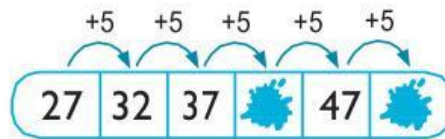
D11. Leggi il problema.

“Con un pentolone di marmellata si riempiono 11 vasetti di vetro. Quanti vasetti si riempiranno con 2 pentoloni?”

Scegli l'operazione giusta.

- ☐ A. $11 + 2 =$
- ☐ B. $11 - 2 =$
- ☐ C. $11 \times 2 =$

D12. Quali sono i numeri nascosti dalle macchie?



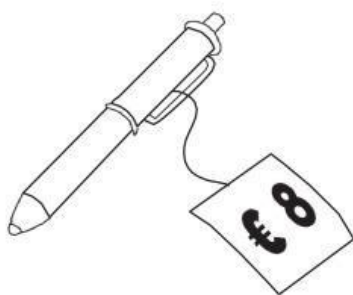
a. Quarto numero:

b. Sesto numero:

D13. Quale tra i seguenti oggetti è il più lungo?

- ☐ A. Una corda per saltare
- ☐ B. Un cucchiaino
- ☐ C. Un fiammifero


D14. Giovanni vede nel negozio queste tre penne.



Penna 1



Penna 2

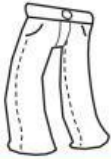

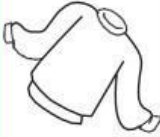
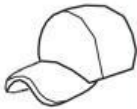




Penna 3

Quale penna costa di più?

- ☐ A. Penna 1
- ☐ B. Penna 2
- ☐ C. Penna 3

D15. Osserva la tabella.

	1	2	3	4	5	6
A						
B						
C						
D						
E						
F						

a. Che cosa trovi in D6?

b. Che cosa trovi in F4?