


LKPO

ILMU PENGETAHUAN ALAM

Sistem Ekskresi Manusia



KELOMPOK : _____

SISTEM EKSKRESI MANUSIA

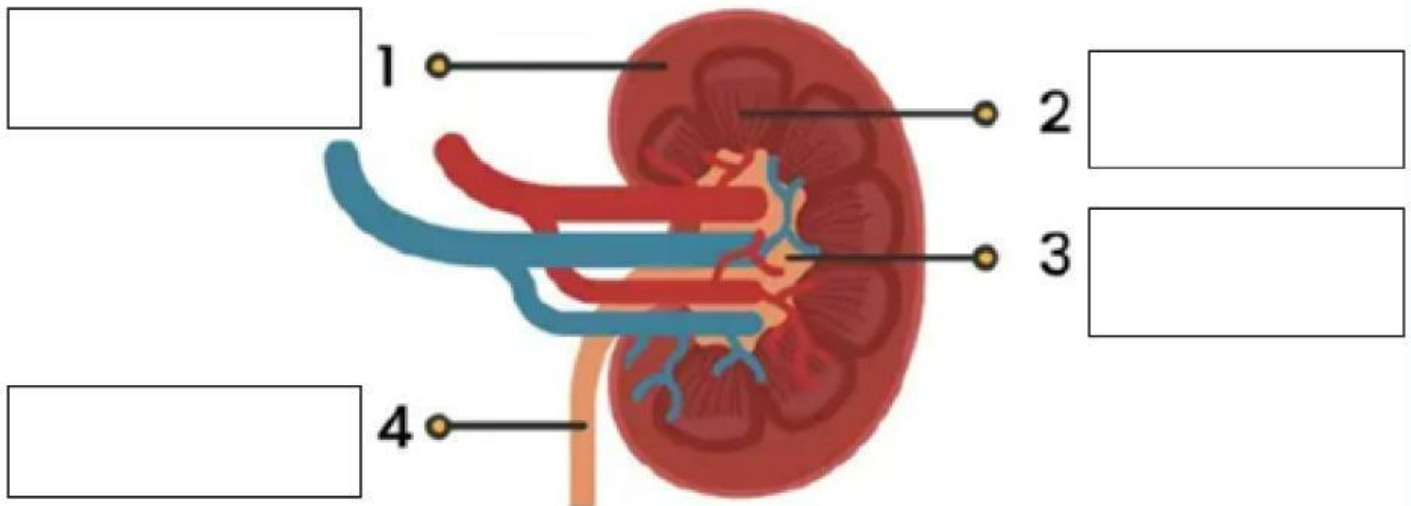
PETUNJUK PENGGUNAAN

1. Mengisi identitas pada E-LKPD
2. Membaca petunjuk penggunaan pada E-LKPD
3. Pelajari materi mengenai sistem ekskresi melalui buku / video pembelajaran
4. Kerjakan soal pada E-LKPD berdasarkan prosedur yang diberikan

AMATI VIDEO BERIKUT

LEMBAR KERJA 2 – STRUKTUR GINJAL

Lengkapilah nama bagian organ berikut dengan mendrag-drop kata-kata di bawah pada gambar !



Medulla

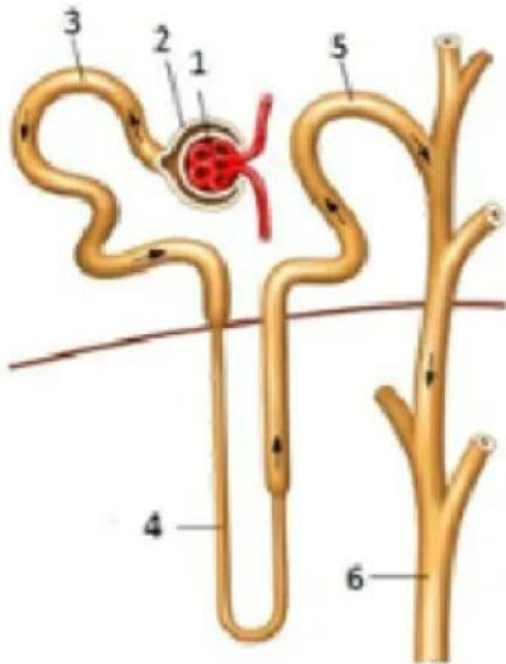
Ureter

Korteks

Pelvis

LEMBAR KERJA 2 – STRUKTUR NEFRON

Berikan keterangan gambar nefron berikut sesuai dengan nomor!



1.

2.

3.

4.

5.

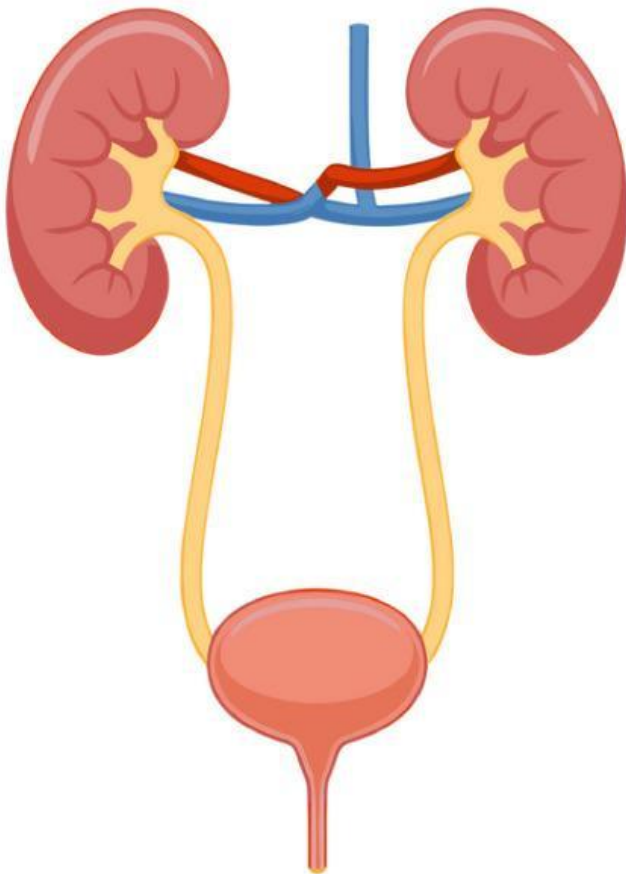
6.

Lengkapi tabel tahapan pembentukan urine berikut!

Proses	Tempat	Hasil
Filtrasi		
Reabsorpsi		
Augmentasi		

LEMBAR KERJA 3 – ALUR PENGELUARAN URIN

Urutkan alur pengeluaran urin dengan mendrag (memindahkan) kotak dibawa pada pada kotak yang tersedia!



1



2



3



4

Kandung Kemih

Ureter

Ginjal

Uretra