


Nama :

Kelas :

MEMBILANG 11 SAMPAI 20

Hubungkan jumlah benda dengan nama bilangan yang sesuai!

1




tiga belas

2




dua belas

3




lima belas

4



tujuh belas

5



delapan belas

Nama:

Kelas:

Mengurutkan Bilangan

Petunjuk Belajar

Angka-angka di badan ulat ini masih berantakan. Tulis kembali angka-angka itu di badan ulat yang kosong di bawahnya. Mulailah dari angka yang **paling kecil** ya!



Petunjuk Belajar

Angka-angka di badan ulat ini masih berantakan. Tulis kembali angka-angka itu di badan ulat yang kosong di bawahnya. Mulailah dari angka yang **paling besar** ya!



OPERASI PENJUMLAHAN

NAMA :

KELAS :



PETUNJUK :

Mari bersama menjawab soal-soal penjumlahan berikut ini!

$$\textcircled{6} + \textcircled{5} = \textcircled{\quad}$$

$$\textcircled{9} + \textcircled{3} = \textcircled{\quad}$$

$$\textcircled{11} + \textcircled{2} = \textcircled{\quad}$$

$$\textcircled{12} + \textcircled{4} = \textcircled{\quad}$$

$$\textcircled{13} + \textcircled{5} = \textcircled{\quad}$$

10

11

11

12

12

13

16

17

17

18



Nama:

Kelas:

Puzzle Hewan Laut

Hitunglah hasil penjumlahan pada soal di bawah ini. Potonglah puzzle lalu tempelah pecahan puzzle sesuai hasil penjumlahan.

$7 + 5 =$	$5 + 6 =$	$8 + 9 =$
$10 + 4 =$	$8 + 2 =$	$6 + 7 =$
$8 + 7 =$	$12 + 4 =$	$15 + 3 =$



18



16



15



12



14



11



10



17



13

