

Nama:

Kelas:




Dampak Rotasi dan Revolusi



Sebutkan masing-masing 4 dampak dari rotasi dan revolusi bagi kehidupan!

1. ROTASI BULAN



1

2

3

4


1

2

3

4

2. ROTASI BUMI



2. Isian Singkat

Jawablah pertanyaan berikut dengan singkat dan tepat!

1. Revolusi Bumi menyebabkan terjadinya ...

2. Revolusi Bulan mengelilingi planet apa?

3. Pergantian tahun di Bumi disebabkan oleh ...

4. Dalam waktu berapa hari Bulan berevolusi?

5. Gerhana Bulan terjadi ketika posisi Bulan berada di ...

6. Bayangan Matahari berpindah sepanjang hari akibat ...

7. Waktu yang dibutuhkan Bumi untuk sekali revolusi adalah ...


8. Fase Bulan saat seluruh permukaan terang disebut ...

9. Waktu yang dibutuhkan Bumi untuk sekali rotasi adalah ...

10. Bulan berada di antara Bumi dan Matahari akan terjadi ...

ROTASI DAN REVOLUSI

TEKA-TEKI SILANG



Mendatar

1. Salah satu musim di negara tropis.
3. Pergerakan bumi mengelilingi matahari.
7. Garis yang menyebabkan Indonesia mengalami dua musim.
8. Pada saat bulan berada di 180° bulan berbentuk.
10. Jumlah fase bulan.
11. Benda langit yang tidak dapat memancarkan cahayanya.
12. Revolusi bulan adalah bulan mengelilingi.



Menurun

1. Gerak semu yang terjadi pada rotasi bumi.
2. Akibat revolusi bulan terjadinya.
4. Pergerakan bumi berputar pada porosnya.
5. Pada saat bulan berada di 45° bulan berbentuk.
6. Gerak semu yang terjadi pada revolusi bumi.
9. Pada saat bulan berada di 225° bulan berbentuk.

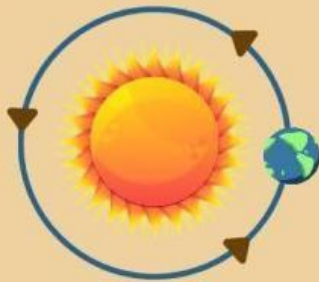
Nama: _____

Kelas: _____

No. Presensi : _____

MENGENAL GERAK BUMI DAN BULAN

Tuliskan nama gerakan sesuai dengan gambar di bawah, dan sebutkan tiga pengaruh dari gerakan tersebut!



Nama Gerakan : _____

Pengaruh : 1. _____

2. _____

3. _____



Nama Gerakan : _____

Pengaruh : 1. _____

2. _____

3. _____



Nama Gerakan : _____

Pengaruh : 1. _____

2. _____

3. _____



Nama Gerakan : _____

Pengaruh : 1. _____

2. _____

3. _____