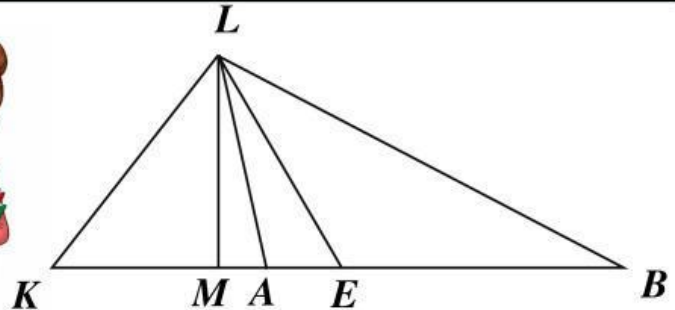


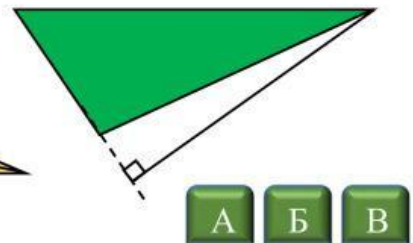
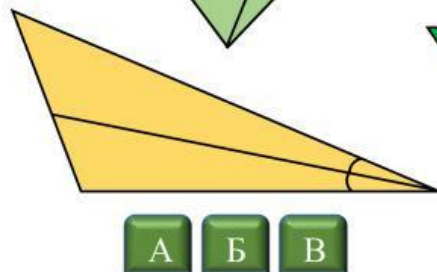
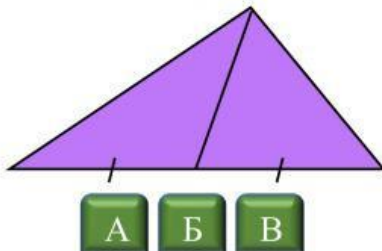
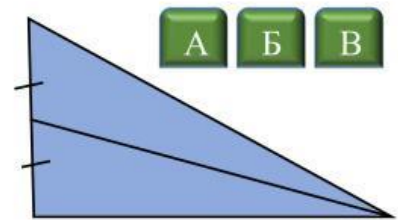
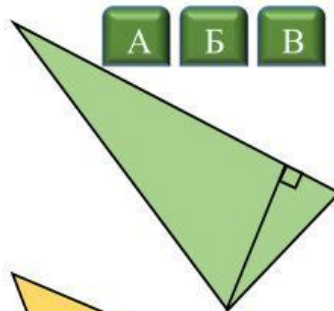
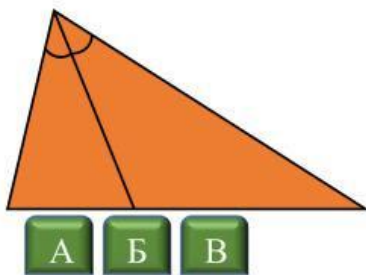
Медіана, бісектриса та висота трикутника

1. Встановити відповідність

- | | |
|---------------|-------|
| 1. Бісектриса | A) LM |
| 2. Медіана | Б) LE |
| 3. Висота | В) LA |



2. Якщо на малюнку бісектриса – вибрати А, якщо медіана вибрати Б, якщо висота – В.



3. Вставити пропущені слова.

Висота – це _____, проведений з вершини трикутника до прямої, що містить його протилежну сторону.

Бісектриса – це відрізок _____ кута трикутника, що сполучає вершину трикутника з точкою протилежної сторони.

Медіана – це відрізок, що сполучає _____ трикутника із _____ протилежної сторони.

