



LKPD

LEMBAR KERJA PESERTA DIDIK

mengenal faktor dan
kelipatan bilangan



Nama Kelompok :

Kelas :

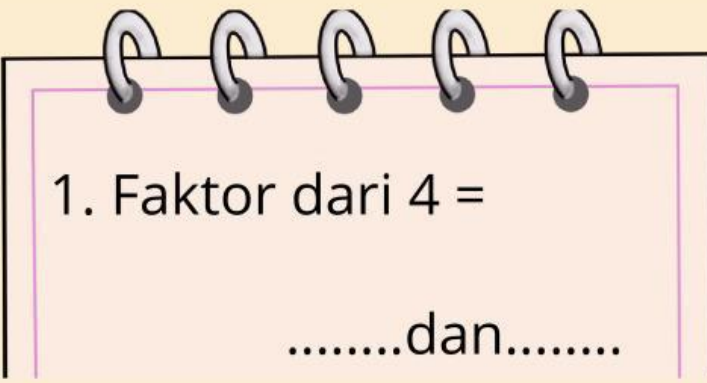




TUGAS 1



Menentukan Faktor

Tuliskan faktor dari bilangan berikut!



1. Faktor dari 4 =

.....dan.....



2. Faktor dari 6 =

..... , ,



3. Faktor dari 8 =

..... , , ,





TUGAS 2

Benar atau Salah



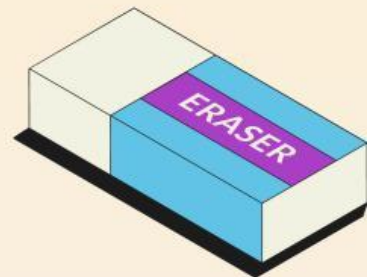
Beri tanda ✓ pada pertanyaan yang benar!

☐ 2 adalah faktor dari 6



☐ 3 adalah faktor dari 9

☐ 4 adalah faktor dari 10



☐ 5 adalah faktor dari 15





TUGAS 3

Melengkapi Kelipatan

Lengkapilah bilangan berikut!



1. Kelipatan 2 :

2, 4, _ , _ , _

2. Kelipatan 3 :

3, 6, _ , _ , _

3. Kelipatan 5 :

5, 10, _ , _ , _

