



ATIVIDADE DE HISTÓRIA

ALUNO: _____


DATA: ____/____/____ SALA _____

DANDO CONTINUIDADE AO CAPÍTULO 3 DO LIVRO DE HISTÓRIA – POVOS DA AMÉRICA E DA ÁFRICA COM ENFOQUE NA UNIDADE TEMÁTICA **TRANSFORMAÇÕES E PERMANÊNCIAS NAS TRAJETÓRIAS DOS GRUPOS HUMANOS**: (unidade temática)

► O Brasil africano

CONTINUAÇÃO

AO CHEGAREM AO BRASIL, OS AFRICANOS ESCRAVIZADOS ERAM VENDIDOS AOS **SENHORES DE ENGENHO** E A OUTRAS PESSOAS QUE PROCURAVAM MÃO DE OBRA ESCRAVA. NA MAIOR PARTE DAS VEZES, CABIAM AOS ESCRAVIZADOS TRABALHOS MUITO DUROS. DE 1550 ATÉ 1850, ISTO É, DURANTE TREZENTOS ANOS, CERCA DE 4 MILHÕES DE AFRICANOS ESCRAVIZADOS FORAM TRAZIDOS À FORÇA PARA O BRASIL. EM 1850, O TRÁFICO DE ESCRAVOS DA ÁFRICA PARA O BRASIL FOI PROIBIDO POR LEI. NÃO ERA MAIS PERMITIDO TRAZER AFRICANOS ESCRAVIZADOS PARA SEREM COMERCIALIZADOS NO BRASIL, MAS AINDA ERA POSSÍVEL COMERCIALIZAR ESCRAVOS QUE JÁ ESTIVESSEM NO PAÍS.



Povo quer libertação, charge de Angelo Agostini sobre a demora na votação da Lei dos Sexagenários, 1885.


O TRÁFICO DE ESCRAVOS FOI PERMITIDO DURANTE TANTOS ANOS PORQUE DAVA LUCRO ÀQUELES QUE O PRATICAVAM E PORQUE MUITAS ATIVIDADES ECONÔMICAS

DEPENDIAM DO TRABALHO ESCRAVO. O TRABALHO FEITO PELOS AFRICANOS ESCRAVIZADOS PRODUZIU RIQUEZAS POR UM LONGO TEMPO DE NOSSA HISTÓRIA.

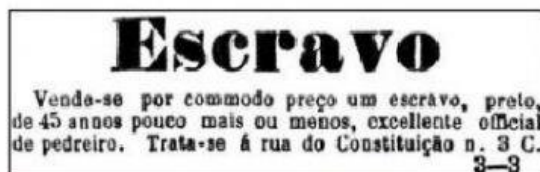
A LEI QUE PROIBIU O TRÁFICO NEGREIRO FICOU CONHECIDA COMO LEI EUSÉBIO DE QUEIRÓS, POIS, GRAÇAS AO ESFORÇO DESSE POLÍTICO DE ORIGEM AFRICANA – ELE NASCEU EM ANGOLA, EM 1812, E VEIO PARA O BRASIL COM 3 ANOS DE IDADE –, ESSA LEI FOI SANCIONADA. EUSÉBIO DE QUEIRÓS FALECEU NO RIO DE JANEIRO EM 1868.

SENHOR DE ENGENHO: NO PERÍODO COLONIAL, ERA O NOME DADO AO PROPRIETÁRIO DE UM ENGENHO PRODUTOR DE AÇÚCAR.

A ESCRAVIDÃO REDUZIA AS PESSOAS A MERCADORIAS. OS NEGROS ESCRAVIZADOS PERTENCIAM AOS SENHORES QUE OS COMPRAVAM DOS COMERCIANTES DE ESCRAVOS. ERAM ELES QUE TRABALHAVAM NAS LAVOURAS DE CANA-DE-AÇÚCAR, NOS ENGENHOS DE AÇÚCAR, NA MINERAÇÃO DO OURO E DO DIAMANTE E NAS FAZENDAS DE CAFÉ. TAMBÉM FAZIAM TRABALHOS DOMÉSTICOS. APESAR DAS INÚMERAS REVOLTAS E FUGAS, O TRABALHO ESCRAVO FOI MANTIDO POR MAIS DE TREZENTOS ANOS, ATÉ A ABOLIÇÃO DA ESCRAVIDÃO EM 1888. VEJA ESTES ANÚNCIOS DE JORNAIS DA ÉPOCA:



Correio Paulistano, 8 de janeiro de 1878.



Correio Paulistano, 23 de abril de 1878.

Fonte: SCHWARCZ, Lilia Moritz. **Retrato em branco e negro**. São Paulo: Companhia das Letras, 2005. p. 256.

APÓS TER LIDO AS INFORMAÇÕES DO TEXTO, FAÇA AS QUESTÕES PEDIDAS. **MARCANDO APENAS UMA OPÇÃO CORRETA**


1. A IMAGEM A SEGUIR REPRESENTA UM ENGENHO DE AÇÚCAR NO NORDESTE BRASILEIRO, NO PERÍODO COLONIAL.

COM BASE NA IMAGEM E EM SEUS CONHECIMENTOS SOBRE O TEMA, PODEMOS AFIRMAR QUE:

- A) () OS AFRICANOS ESCRAVIZADOS FORMAVAM A PRINCIPAL MÃO DE OBRA USADA NOS ENGENHOS DE AÇÚCAR.
- B) () APENAS HOMENS ESCRAVIZADOS TRABALHAVAM NA PRODUÇÃO DE AÇÚCAR.
- C) () APENAS MULHERES ESCRAVIZADAS TRABALHAVAM NA PRODUÇÃO DE AÇÚCAR.

D) () OS AFRICANOS ESCRAVIZADOS TRABALHAVAM EXCLUSIVAMENTE NA PRODUÇÃO DE AÇÚCAR.

Henry Koster/Biblioteca Britânica, Londres, Inglaterra



Engenho de açúcar, gravura publicada no livro *Viagem ao Nordeste do Brasil*, de Henry Koster, 1816.

2. OBSERVE A IMAGEM ABAIXO E RESPONDA ÀS PERGUNTAS A SEGUIR.



Mercado de negros, de Johann Moritz Rugendas, 1830.

QUE PRÁTICA COMUM DO BRASIL COLONIAL ESTÁ SENDO REPRESENTADA NA IMAGEM?

- A) () CONFRATERNIZAÇÃO DOS COLONOS E AFRICANOS.
- B) () OS AFRICANOS SENDO EXPOSTO NO MERCADO PARA A VENDA.
- C) () OS ESCRAVOS ESTÃO RESISTINDO AO TRABALHO.
- D) () MOMENTO DE DESCANSO E DESCONTRAÇÃO DE TODOS

3. LEIA O TEXTO A SEGUIR SOBRE A CONTRIBUIÇÃO DOS AFRICANOS E AFRODESCENDENTES NA FORMAÇÃO DA SOCIEDADE BRASILEIRA.

GRANDE PARTE DA POPULAÇÃO AFRO-BRASILEIRA PODE SE PERGUNTAR “COMO CHEGAR ÀS MINHAS ORIGENS NO CONTINENTE AFRICANO?”. POVOS AFRICANOS DE DIFERENTES REGIÕES FORAM TRAZIDOS PARA O BRASIL E INFORMAÇÕES QUE PODERIAM APONTAR PARA ESSAS RESPOSTAS NÃO SOBREVIVERAM AO TEMPO. NO BRASIL, EXISTEM PESQUISAS EM LABORATÓRIOS DE ALTA TECNOLOGIA QUE USAM EXAMES DE SANGUE COMPARATIVO PARA MAPEAR ANCESTRAIS DISTANTES E IDENTIFICAR REGIÕES NA ÁFRICA DE ONDE DESCENDEM PESSOAS AFRO-BRASILEIRAS. PORÉM, NÃO SÓ POR MEIO DE EXAMES COMPLEXOS SE PODE RECONHECER A ANCESTRALIDADE AFRICANA. POR MEIO DA ALIMENTAÇÃO, DE PALAVRAS DO COTIDIANO E DA RELIGIOSIDADE TAMBÉM PODEMOS TER CONTATO COM NOSSA MATRIZ AFRICANA.

I. DORNELAS. ORIGINAL CEDIDO PELA AUTORA.

A PARTIR DO TEXTO, É POSSÍVEL IDENTIFICAR QUE A INFLUÊNCIA DE POVOS AFRICANOS NO BRASIL:

- A) () ENCONTRA-SE CONFINADA AOS MUSEUS.
- B) () RESUME-SE AOS HÁBITOS ALIMENTARES.
- C) () ESTÁ PRESENTE EM VÁRIOS ASPECTOS DA CULTURA.
- D) () EXISTE APENAS SE FOR COMPROVADA CIENTIFICAMENTE.

Após ter marcado todas as opções corretamente, clique no botão azul e envie para meu email:

leila.cristine@edu.pbh.gov.br

