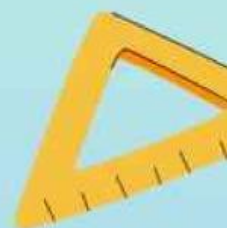


LKPD

Lembar Kerja Peserta Didik

Oprasi Hitung Perkalian



Nama : _____

Kelas : _____

PENYUSUN :
NAILA FAIZATUR ROSYIDA
34302400007
3A

3

Nama :

Kelas :

Perkalian Soal Cerita !



Petunjuk : Bacalah soal cerita, lalu hitung dan jawab lah dengan tepat !



Badut memberi 6 balon ke anak. Setiap anak mendapat 4 balon. Berapa balon yang diberikan badut ?

Jawab :

..... X =



Naila mempunyai 3 kelinci. Setiap hari kelinci Naila makan 5 wortel. Ada berapa wortel yang di butuhkan setiap harinya ?

Jawab :

..... X =



Rio memelihara 4 ayam. Hari ini ke - 5 ayam Rio bertelur, masing - masing bertelur 4 butir. Berapa jumlah telur - telur ayam Rio ?

Jawab :

..... X =



Ibu memetik jeruk mendapat 5 kantong. Masing - masing kantong berisi 9 jeruk, berapa jumlah jeruk yang dibawa ibu ?

Jawab :

..... X =

Nama :

Kelas :

Perkalian Soal Cerita !



Petunjuk : Bacalah soal cerita, lalu hitung dan jawab lah dengan tepat !



Ibu membeli 3 bungkus tahu. Setiap bungkus berisi 5 buah tahu. Berapa banyak tahu yang dibeli ibu ?

Cara Penyelesaian :


Bungkus tahu yang dibeli ibu = 3 bungkus

Isi masing - masing bungkus tahu = 5 tahu

Maka operasi matematika yang dilakukan

adalah x =

Jadi tahu yang dibeli ibu berjumlah buah.




Andi membeli 3 utas tali rafia berwarna merah, yang masing - masing panjangnya 6 cm. Andi juga membeli 4 utas rafia berwarna biru yang masing - masing panjangnya 5 cm. Berapakah cm panjang tali yang dibeli Andi ?

Cara Penyelesaian :

- Tali berwarna merah **3** utas dengan panjang masing2 **6** cm, maka operasi perhitungannya adalah x = cm

- Tali berwarna biru **4** utas dengan panjang masing2 **5** cm, maka operasi perhitungannya adalah x = cm

Jadi jika kedua panjang tali merah dan biru di jumlah, maka panjang keseluruhan tali yang dibeli oleh Andi adalah + = cm



Ayah memiliki 10 keranjang apel. Setiap keranjang berisi 10 buah apel. Berapakah jumlah apel yang dimiliki ayah ?

Cara Penyelesaian :

Jumlah keranjang apel milik ayah : **10** keranjang

Jumlah apel di tiap keranjang : **10** buah

Maka operasi perhitungan yang dilakukan adalah

..... x =

Jadi ayah memiliki buah apel dari seluruh keranjang miliknya

Nama :

Kelas :

KERJAKAN HASIL PERKALIAN BERIKUT DENGAN PENJUMLAHAN BERULANG !

$$4 \times 8 = 8 + 8 + 8 + 8 = 32$$

$$\dots = 4 + 4 + 4 + 4 + 4 + 4 = 24$$

$$5 \times 7 = \dots = 35$$

$$\dots = 5 + 5 + 5 + 5 + 5 + 5 = \dots$$

$$5 \times 3 = \dots = \dots$$

$$2 \times 10 = 10 + 10 = \dots$$

