

Lembar Kerja Peserta Didik

1

2

LKPD Matematika

Pengukuran Kelas 2 SD

π

+

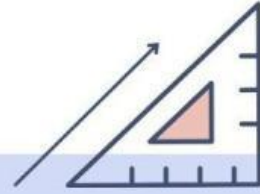


Nama : _____

Kelas : _____

Nama: _____ Kelas: _____

PENGUKURAN



1. Konversilah satuan berikut ke dalam satuan internasionalnya.

A. 3,6 kuintal: _____

C. 45 menit: _____

B. 3,5 km: _____

D. 2.870 liter: _____

2. Identifikasi pernyataan berikut benar atau salah dengan memberi tanda centang! ✓

A. Warna larutan merupakan contoh pengamatan kualitatif. ☐ Benar ☐ Salah

B. 24 meter merupakan hasil dari pengamatan kualitatif. ☐ Benar ☐ Salah

C. kecepatan merupakan contoh besaran turunan. ☐ Benar ☐ Salah

3. Lakukan pengamatan kualitatif di kelasmu seperti deskripsikan kondisi cahaya, suasana kelas, serta penataan meja dan kursi di dalam kelas!

4. Lakukan pengamatan kuantitatif di kelasmu seperti mencatat jumlah jendela, meja, kursi, serta suhu udara di dalam kelas!

5. Sebutkan nama alat ukur beserta hasil pengukurannya dalam satuan internasional.

A.



B.



C.



A. Nama alat ukur: _____ Satuan: _____

B. Nama alat ukur: _____ Satuan: _____

C. Nama alat ukur: _____ Satuan: _____

Nama : _____

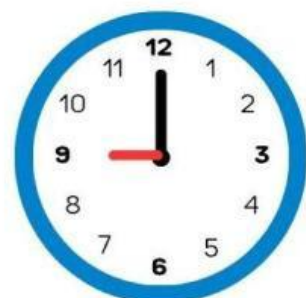
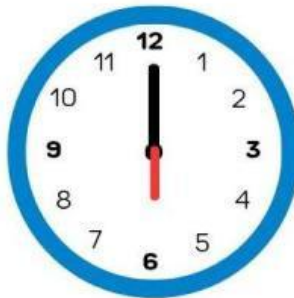
Kelas : _____

Mari Membaca Jarum Jam

Perhatikan gambar jam di bawah ini. Sebutkan waktu
yang tepat sesuai dengan gambar jam berikut!



03.00



Nilai



Saran Guru

Paraf
