

ĐỀ CƯƠNG ÔN TẬP HỌC KÌ 1 - KHỐI 1

Câu 1: Máy tính em đang sử dụng có những thành phần nào?

Thân máy Màn hình Bàn phím
Chuột Loa Bàn học

Câu 2: Em hãy quan sát các tình huống dưới đây, đánh dấu . Không nên đánh dấu X



Báo thầy, cô giáo khi thấy phích điện rời khỏi ổ cắm.

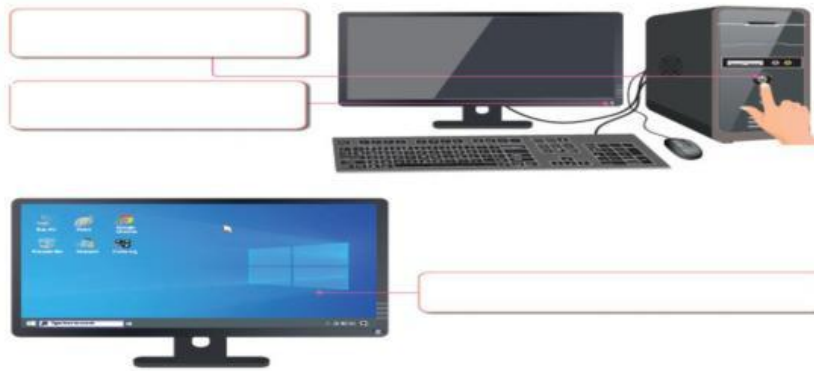
Câu 3: Hãy điền đúng các bộ phận của chuột.



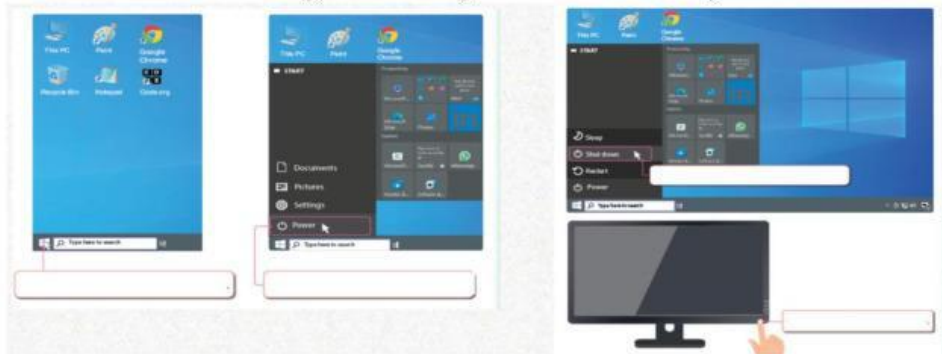
Câu 4: Tư thế cầm chuột nào dưới đây đúng hay sai:



Câu 5: Hãy điền đúng các bước khởi động máy tính.



Câu 6: Hãy điền đúng các bước tắt máy tính.



Câu 7: Phần mềm Mouse Skills dùng để làm gì?

- A. Học gõ bàn phím
- B. Luyện kỹ năng sử dụng chuột máy tính
- C. Vẽ tranh
- D. Nghe nhạc

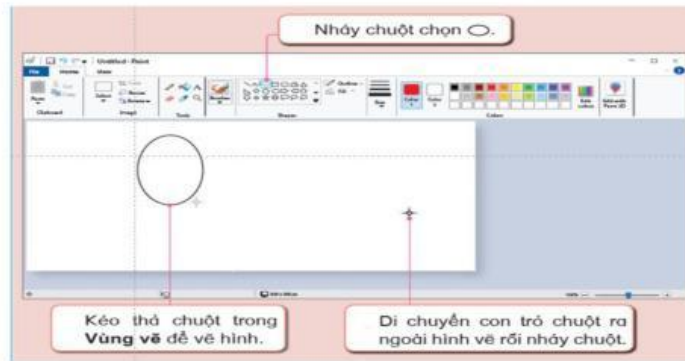
Câu 8: Hãy nối sao cho đúng các bài luyện kỹ năng chuột máy tính trong phần mềm Mouse Skills.

Bài luyện tập	Thao tác với chuột
1) Bài 1 (Level 1)	a) Nháy nút phải chuột
2) Bài 2 (Level 2)	b) Di chuyển chuột
3) Bài 3 (Level 3)	c) Nháy chuột
4) Bài 4 (Level 4)	d) Kéo thả chuột
5) Bài 5 (Level 5)	e) Nháy đúp chuột

Câu 9: Trong các biểu tượng sau đây, đâu là biểu tượng phần mềm Word.



Câu 10: Điền các bước để vẽ hình bóng bay



Câu 11: Trong các phát biểu sau, phát biểu nào đúng, phát biểu nào sai.

- Có thể dùng phím mũi tên để di chuyển con trỏ soạn thảo trong dòng chữ.
- Không thể di chuyển con trỏ soạn thảo trong dòng chữ đã gõ.
- Chữ trên phím được gõ xuất hiện tại vị trí con trỏ soạn thảo.

Câu 12: Em dùng phím gì để xóa kí tự ở trước (bên trái) con trỏ soạn thảo.

- A. Phím Enter B. Shift C. Backspace D. Tab

Câu 13: Em dùng phím gì để cách giữ các từ khi gõ văn bản.

- A. Enter B. Shift C. Backspace D. Dấu cách.

Câu 14: Chọn đúng tên của thành phần của máy tính.



Câu 15: Chọn đúng tên của thành phần của máy tính.



- A. Màn hình B. Chuột C. Bàn phím D. Thân máy