



# ÔN TẬP KIỂM TRA CUỐI KÌ 1

## Câu 1. Đánh dấu ✓ vào đáp án đúng

a. Số lớn nhất trong các số 7, 10, 3 là

7       10       3

b. Số bé nhất trong các số 9, 4, 0 là

9       4       0

## Câu 2. Điền dấu > < =

$9 - 3 \quad \square \quad 8 - 2$

$8 - 4 \quad \square \quad 9 - 5$

$2 + 4 \quad \square \quad 10 - 2$

$6 + 2 \quad \square \quad 6 + 4$

$7 + 1 \quad \square \quad 5 + 2$

$10 + 0 \quad \square \quad 10 - 10$

## Câu 3. Số?

$1 + 5 + 3 = \dots$

$10 - 4 + 2 = \dots$

$6 + 2 - 5 = \dots$

$7 - 6 + 3 = \dots$

$4 + 4 - 7 = \dots$

$5 + 5 - 9 = \dots$

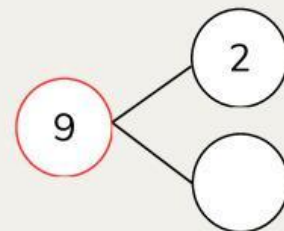
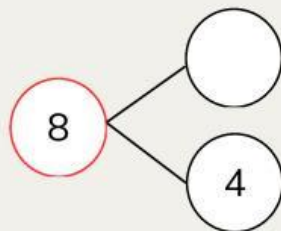
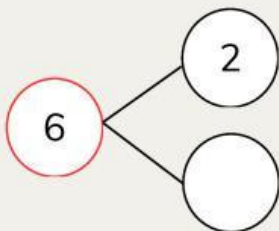
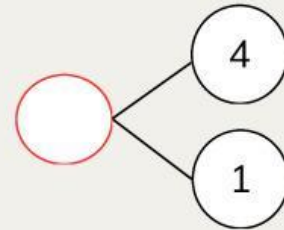
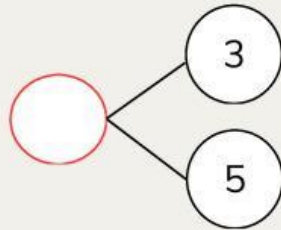
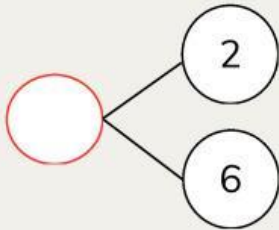
## Câu 4. Sắp xếp các số 2, 10, 5, 7

Từ bé đến lớn:  →  →  →

Từ lớn đến bé:  →  →  →



### Câu 5. Số?



### Câu 6. Đánh dấu ✓ vào khối hộp chữ nhật



### Câu 7. Số?

Có .....hình tam giác

Có .....hình vuông

Có .....hình chữ nhật

