



"Hore! Kamu berhasil menyelesaikan latihan perkalian menggunakan cara bersusun pendek tanpa menyimpan!"

"Sekarang kita akan mencoba berlatih untuk menghitung perkalian menggunakan cara bersusun dengan menyimpan! Ayo kita mulai bersama-sama!"



Berlatih Menggunakan Perkalian Bersusun Pendek dengan Menyimpan



NAMA :



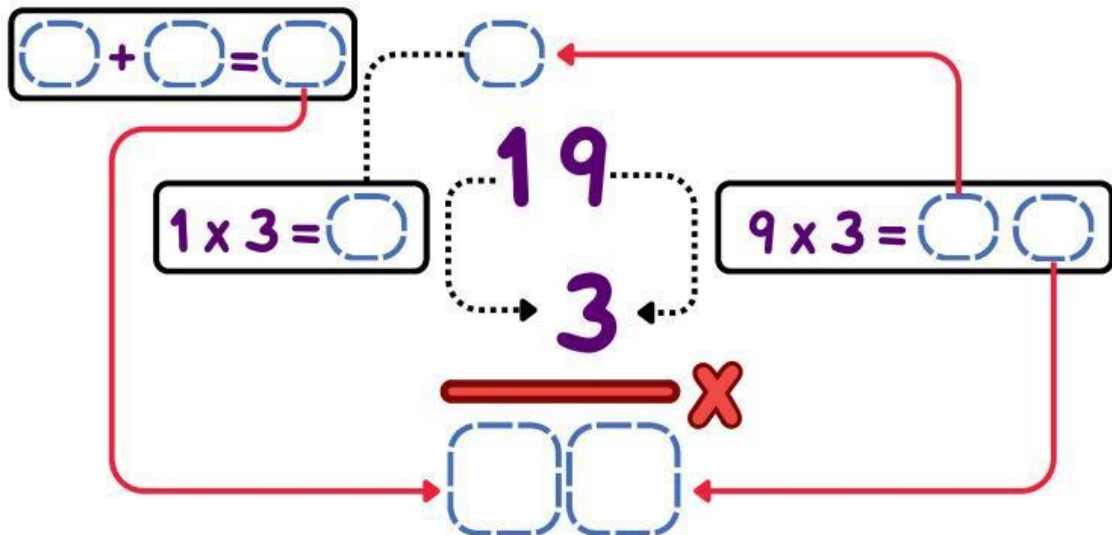
Petunjuk Pengerjaan

1. Isi nama kamu.
 2. Baca & cermati soal yang ada.
 3. Lengkapi perkalian dengan menyimpan yang ada dengan mengetik angka yang tepat pada setiap kotak yang kosong.
 4. Jawab pertanyaan yang ada dengan mengetik jawaban pada kotak.
 5. Lanjutkan ke soal berikutnya, dan tekan tombol finish jika sudah selesai.
- *Tanyakan kepada guru atau orang tuamu jika kamu belum paham.



1

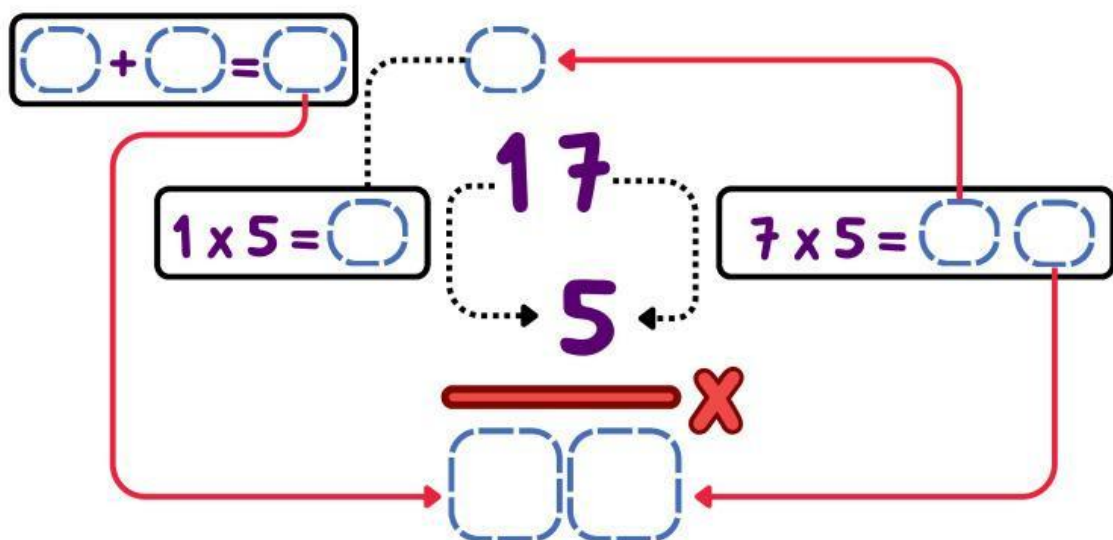
Di toko ada 3 toples permen. Setiap toples berisi 19 permen.
Hitunglah semua permen yang ada menggunakan cara perkalian bersusun pendek dengan menyimpan!



Jadi jumlah permen yang ada adalah permen



- 2 Di kantin sekolah ada 5 wadah roti, dan setiap wadah berisi 17 roti. Hitunglah semua roti yang ada menggunakan cara perkalian bersusun pendek dengan menyimpan!

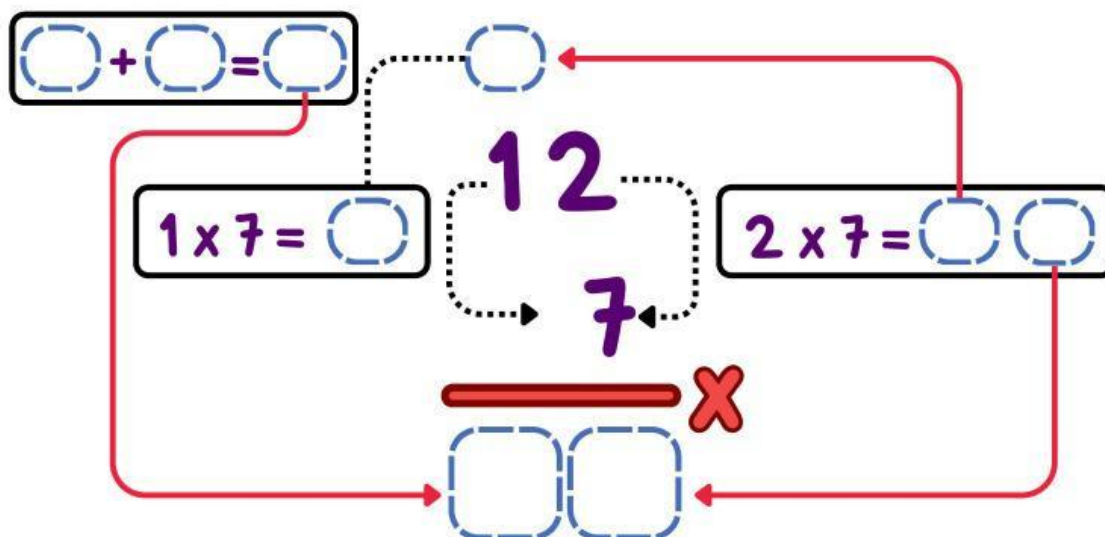


Jadi jumlah pensil warna yang dimiliki Sinta adalah



3

Nala suka menghabiskan waktunya untuk menggambar. Dalam seminggu dia bisa menyelesaikan 7 gambar. Berapa banyak gambar yang bisa diselesaikan oleh Nala dalam waktu 12 minggu? Hitunglah menggunakan cara perkalian bersusun pendek dengan menyimpan!

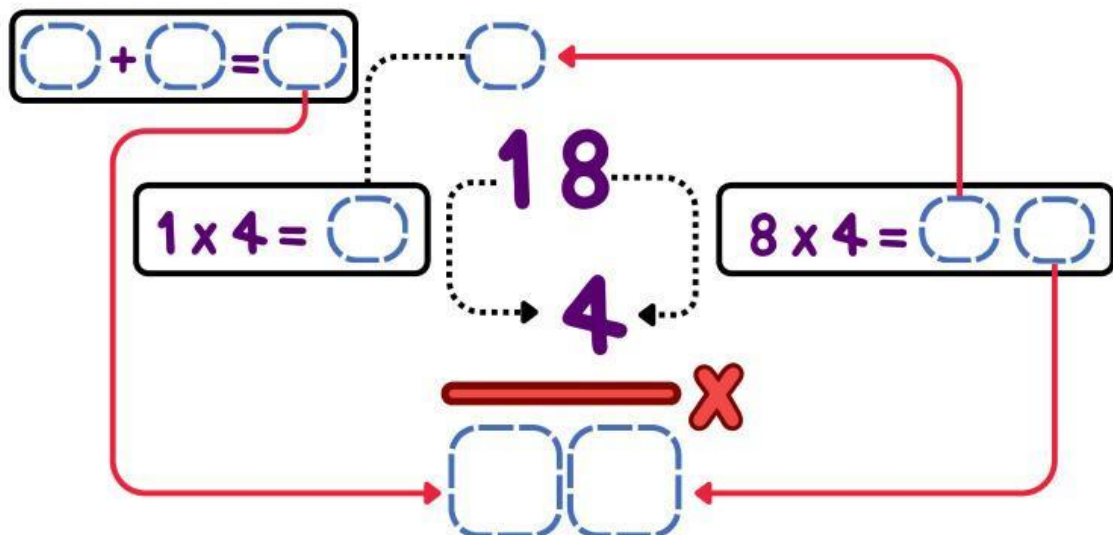


Gambar yang dapat diselesaikan Nala adalah gambar.




4

Fatimah rajin membaca buku. Setiap hari, dia membaca 4 halaman buku. Jika Fatimah membaca selama 18 hari, berapa jumlah halaman yang telah dibaca Fatimah? Hitunglah menggunakan cara perkalian bersusun pendek dengan menyimpan!

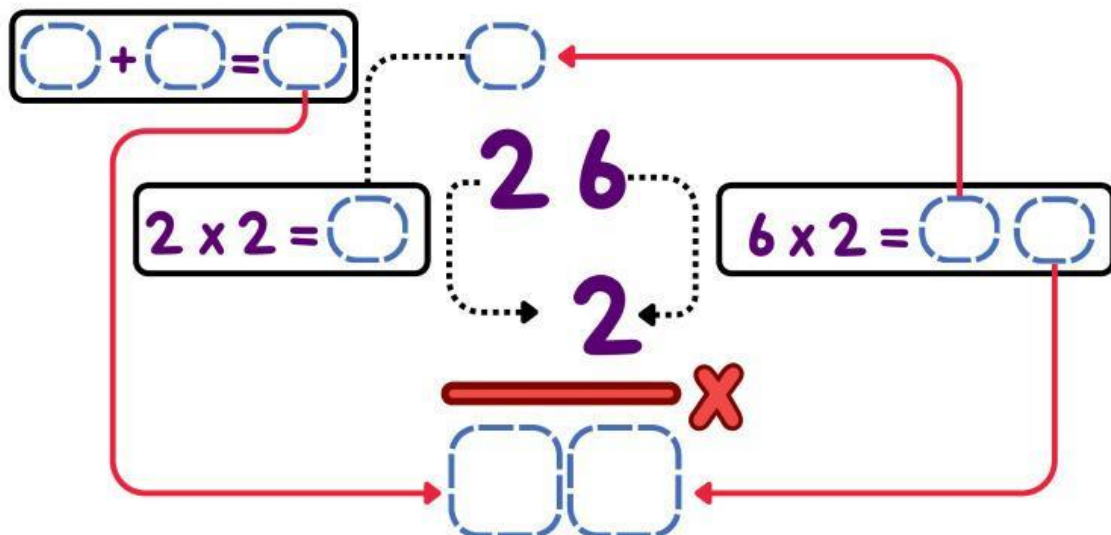


Halaman buku yang telah dibaca Fatimah adalah



5

Deni suka berolahraga, dia selalu berlari dengan jarak 2 kilometer. Jika Deni berlari selama 26 hari, maka berapa total jarak yang sudah ditempuh oleh Deni selama dia berlari? Hitunglah menggunakan cara perkalian bersusun pendek dengan menyimpan!



Jadi jarak yang sudah ditempuh oleh Deni adalah km.