



LIVEWORKSHEET PEMBAGIAN INTERAKTIF



MENU PETUNJUK PENGGUNAAN

1. Buka Liveworksheets melalui tautan yang diberikan oleh guru melalui Laptop atau Hp.
2. Baca petunjuk penggunaan.
3. Klik tombol play pada video dan tonton sampai selesai untuk memahami materi yang akan dipelajari.
4. Ikuti intruksi yang muncul di layar dengan teliti sebelum mengerjakan aktivitas interaktif.
5. Kerjakan aktivitas drag and drop pembagian interaktif.
6. Setelah mengerjakan aktivitas interaktif, kerjakan soal latihan.
7. Pastikan seluruh aktivitas interaktif dan soal latihan sudah selesai sebelum mengklik finish.



MENU VIDEO PEMBELAJARAN

Video Pembelajaran Mengenai Pembagian

Selamat Menonton




MENU AKTIVITAS INTERAKTIF

Setelah menonton video kerjakan aktivitas interaktif berikut ini!. Baca soal terlebih dahulu sebelum mengerjakan soal. Kerjakan dengan sungguh-sungguh ya!



Pak Budi memetik 12 biji mangga. Pak Budi ingin memasukkan ke dalam 4 kantong sama banyak untuk dijual di pasar. Jadi, berapakah banyak mangga yang ada dalam setiap keantongnya!




Kantong 1

Kantong 2

Kantong 3

Kantong 4

Ana mempunyai 15 permen. Di ingin membagikannya kepada Intan, Rama dan Dinda. Jadi, berapa banyak permen yang didapatkan oleh Intan, Rama dan Dinda?



Dinda

Intan

Rama



Ada 15 buku. Ibu ingin memasukkannya ke dalam rak. Ibu memiliki 5 rak. Berapa banyak jumlah buku yang ada dalam setiap rak?



Rak 1


Rak 2

Rak 3

Rak 4

Rak 5

Ibu membeli 16 telur di telur di warung. Ibu ingin menaruh telur tersebut ke dalam dua wadah. Jadi, berapakah banyak telur yang ada dalam setiap wadah?



Wadah 1

Wadah 2



Ibu membeli 18 kue kering yang sangat lezat. Kue-kue itu akan dibagikan kepada 3 orang anaknya, yaitu Ayu, Nina dan Dodi. Agar mendapatkan kue yang sama rata, berapa banyak kue yang harus dibagikan kepaa Ayu, Nina dan Dodi?




Ayu

Nina

Dodi

Seorang panitia memiliki 10 balon warna warni. Balon itu akan dibagi ke 2 meja dekorasi. Untuk setiap meja, berapa jumlah balon yang diperlukan agar jumlahnya rata?



Meja 1

Meja 2



Di sebuah kebun yang indah ada 20 bunga mawar yang mekar. Bunga mawar ini akan dipetik dan dibagikan ke 4 orang yang ada di sekitar kebun. Berapa banyak bunga mawar yang didapatkan oleh setiap orang?





Sebuah sekolah memiliki 28 bola sepak untuk pelajaran olahraga. bola-bola itu akan disimpan di 7 gudang yang berbeda. Jadi, berapa bola yang ada di setiap gudang?



1

2

3

4



5

6

7




Kakak Rita memanen 24 bunga di taman sekolah. Bunga-bunga itu akan ditanam di 8 pot bunga yang cantik. Jadi, aturlah bunga-bunga itu, agar setiap pot mendapatkan jumlah yang sama rata!





Pak tani memanen 14 jeruk dari pohonnya. Jeruk-jeruk itu akan dikemas dalam 2 keranjang untuk dijual. Berapakah jumlah jeruk yang harus ada di dalam keranjang agar jumlah jeruk setiap keranjang sama rata?



Menu Latihan Soal

Langkah-langkah petunjuk mengerjakan soal.

1. Bacalah soal dengan teliti.
2. Setelah membaca soal drag jawaban ke dalam kolom yang sudah disediakan.
3. Periksa kembali jawaban kembali untuk memastikan jawaban sudah tepat atau belum.
4. Klik tombol finish setelah selesai mengerjakan soal.
5. Jangan lupa mengisi identitas pada halaman terakhir pada bagian kiri pojok bawah.



Link Latihan Soal:

