

Lembar Kerja Peserta Didik

LKPD

MATEMATIKA

Bilangan dan Berhitung




Nama : _____

Absen : _____



MENGENAL BILANGAN


SILAKAN HUBUNGKAN JUMLAH BUAH YANG ADA DENGAN BILANGAN
YANG TEPAT BERIKUT INI DENGAN BENAR!




3



7



9



6



NILAI TEMPAT DAN PECAHAN



PASANGKAN KATA DAN GAMBAR DENGAN TEPAT!

23

31

44

25

$\frac{1}{2}$

$\frac{1}{4}$

$\frac{1}{3}$

$\frac{1}{5}$

Dua Puluhan
Tiga Satuan

Satu Per Lima

Empat Puluhan
Empat Satuan

Satu Per Dua

Tiga Puluhan
Satu Satuan

Satu Per Tiga

Dua Puluhan
Lima Satuan

Satu Per Empat



**PENJUMLAHAN
DAN
PENGURANGAN**



Jawablah pertanyaan dibawah ini dengan tepat

1.Hasil dari $7 + 5$ adalah.....

2.Hasil dari $17 - 9$ adalah.....

3.Lia memelihara 14 ekor kelinci, 3 hari lalu 8 kelincinya meninggal.
Berapakah sisa kelinci Lia...

4.Hasil dari $3 + 12$ adalah.....

5.Roni memiliki 16 buah bola.
Pada hari ulang tahunnya ayah Roni membelikan Roni Bola sebanyak 3 buah, jadi berapa jumlah bola yang dimiliki Roni.....