

1

2

3

4

Ayo Menghitung Sampai Dengan 10

Matematika Kelas 1 SD

5

6



 **LIVEWORKSHEETS**

2

1



3

Menghitung
Benda


6

4

5



6 Balon



10 Pensil



4 Tas

2

Membandingkan Jumlah

1



Lebih Banyak dari



4 Lebih Banyak dari 2



Lebih Sedikit dari



3 Lebih Sedikit dari 6

3

5

Lembar Kerja Peserta Didik

LKPD

Ayo Menghitung Sampai Dengan 10!

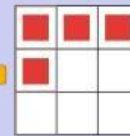


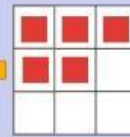
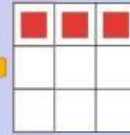


1

Ayo hitung jumlah benda!

Tariklah garis, pasangkan benda yang sama banyak.

2

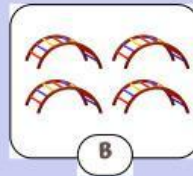
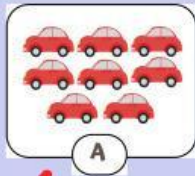


3

4

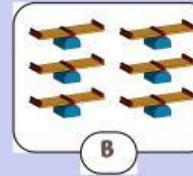
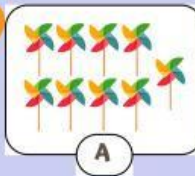
4

1 2
Ago bandingkan jumlah benda!



4
Benda mana yang jumlahnya lebih banyak?

Benda mana yang jumlahnya lebih sedikit?



3
Benda mana yang jumlahnya lebih banyak?

Benda mana yang jumlahnya lebih sedikit?

1 Ayo lengkapi urutan bilangan berikut!

Lengkapi bilangan mulai dari 1 sampai 10



3

Lengkapi bilangan mulai dari 10 sampai 1



5

4