




LKPD



MATEMATIKA


Tema: Bilangan dan Menghitung Bilangan 1–20



Nama :

Kelas :





A. Mari Membaca Bilangan

Lingkari angka yang sesuai dengan kata berikut!

Delapan → 6 8 10

Dua belas → 12 20 11

Lima belas → 14 15 13

B. Menulis Bilangan

Tuliskan angka dari nama bilangan berikut!

Enam belas : _____

Tujuh : _____

Sembilan belas : _____

C. Cocokkan Bilangan

Tarik garis dari angka ke nama bilangannya!

6 8 10

Sepuluh Enam Delapan

C. Menjumlah Bilangan

Hitunglah!



$4 + 3 =$

$7 + 5 =$

$5 + 8 =$

$9 + 7 =$

$10 + 10 =$



E. Mengurangi Bilangan

Hitunglah!

$5 - 3 =$

$7 - 6 =$


$10 + 5 =$

$9 + 6 =$

$12 + 7 =$

E. Ayo Warnai!

Warnailah kotak sebanyak bilangan berikut!



5 Kotak

12 kotak

F. Tantangan Cerdas

Urutkan bilangan berikut dari yang terkecil ke terbesar!

1, 7, 3, 10, 5 \longrightarrow _____

15, 9, 12, 18, 7 \longrightarrow _____

G. Tantangan Cerdas

Urutkan bilangan berikut dari yang terbesar ke terkecil!

9, 2, 11, 6, 20 \longrightarrow _____