

LKPD

Matematika

Cerita Pengurangan

$$8 - 5 = ?$$
$$7 - 2 = ?$$



Nama:

Kelas:

Capaian Pembelajaran

Menunjukkan pemahaman dan memiliki intuisi bilangan (number sense) pada bilangan cacah sampai 100; membaca, menulis, menentukan nilai tempat, membandingkan, mengurutkan, serta melakukan komposisi (menyusun) dan dekomposisi (mengurai) bilangan; melakukan operasi penjumlahan dan pengurangan menggunakan benda-benda konkret yang banyaknya sampai 20;

Tujuan Pembelajaran

1. Peserta didik mampu melakukan pengurangan sampai dengan berdasarkan cerita dengan menggunakan benda kongret atau gambar 10 (C3)
2. Peserta didik mampu menuliskan kalimat matematika dari cerita pengurangan dengan menggunakan simbol "-" dan "=" setelah mengamati benda kongret atau gambar. (C3)
3. Peserta didik mampu menyelesaikan soal cerita pengurangan sampai bilangan 10 dengan bantuan benda kongkret atau gambar (C3)

Petunjuk Pengerjaan



1. Berdoa sebelum mengerjakan lembaran soal.
2. Isilah identitas seperti nama dan kelas.
3. Baca dan cermati soal dengan teliti.
4. Tulislah jawaban yang benar pada kolom yang telah disediakan.
5. Jika ada yang tidak dipahami, silahkan bertanya kepada guru.
6. Mulailah mengerjakan LKPD dengan bersungguh-sungguh.

Nama :



Kelas :



melakukan pengurangan sampai dengan 10 menggunakan gambar

Amati gambar dan lengkapi operasi pengurangannya

1.  $-$  $=$

2.  $-$  $=$

3.  $-$  $=$

4.  $-$  $=$

Nama :

Kelas :

Menuliskan kalimat matematika dari cerita

Petunjuk: Bacalah cerita berikut, lalu tuliskan kalimat matematika pengurangannya menggunakan simbol “-” dan “=”.

1. Dina memiliki 10 buah pena , kemudian 4 buah pena diberikan kepada temannya. Tuliskan kalimat matematikanya.

2. Di kotak pensil ada 7 pensil, lalu 2 pensil diambil. Tuliskan kalimat matematikanya.

3. Riko mempunyai 10 buah krayon, kemudian 3 buah krayon hilang. Tuliskan kalimat matematikanya

4. Sinta memiliki 8 buah pensil warna, lalu ia meminjamkan pada temanya 5 buah pensil warna . Tuliskan kalimat matematikanya.

5. Di rak buku ada 6 buku, kemudian 3 buku dipinjam teman. Tuliskan kalimat matematikanya.

Nama :

kelas :

Menyelesaikan soal cerita pengurangan sampai bilangan 10

Petunjuk: Tuliskan kalimat matematika dan tentukan hasil akhir dari cerita-cerita berikut.

1. Meja Rini ada 8 buah pensil. Dia memberi 5 pensil kepada teman-temannya. Tuliskan kalimat matematika dan tentukan sisa pensil Rini sekarang.

2. Ada 7 spidol di dalam kotak. Saat diperiksa, ternyata 1 spidol hilang. Tuliskan kalimat matematika dan tentukan sisa spidol sekarang.

3. Kakak membeli 9 buah krayon. Tiba-tiba, 4 krayon jatuh dan patah, sehingga tidak bisa dipakai lagi.
Tuliskan kalimat matematika dan berapa krayon yang masih bisa dipakai?

4. Tono memiliki 8 spidol warna. Ia menggunakan 2 spidol untuk menggambar dan 1 spidol lagi dipinjam oleh kakaknya.
Tuliskan kalimat matematika dan hitunglah sisa spidol warna Tono sekarang.

5. Meja Ani ada 6 buah pensil. Dia memberi 3 buah pensil kepada teman-temannya. Tuliskan kalimat matematika dan tentukan sisa pensil Ani sekarang.
