


LKPD

ILMU PENGETAHUAN ALAM

Sistem Peredaran Darah Manusia

SMP/MTs Kelas VIII FASE D



Kelompok:

Nama anggota : _____

8

Oleh : Citra Aura

INFORMASI UMUM



E-LKPD ini bertujuan untuk melatih kemampuan mengidentifikasi dan menganalisis informasi yang disajikan pada materi sistem peredaran darah manusia menggunakan model pembelajaran kooperatif TPS (Think Pair Share). Model ini mempunyai 3 tahapan yaitu:

1. Think : Peserta didik diberikan sebuah video pembelajaran dan diminta untuk menyimak setiap informasi yang diberikan.
2. Pair : Peserta didik dipasangkan (1 kelompok berisi 2 orang) dan mulai saling berdiskusi mengenai hasil analisis masing-masing".
3. Share : Peserta didik mulai mempresentasikan hasil diskusi kelompok ke depan kelas.

PETUNJUK PENGISIAN

Tahap Pengerjaan

- Login ke Liveworksheets melalui link yang telah diberikan guru.
- Simaklah setiap video yang disajikan.
- Bacalah setiap petunjuk yang tersedia di halaman E-LKPD.
- Kerjakan setiap soal secara berurutan dari atas ke bawah.
- Pastikan semua jawaban telah terisi dengan jelas dan benar sebelum mengirimkan.

CAPAIAN PEMBELAJARAN

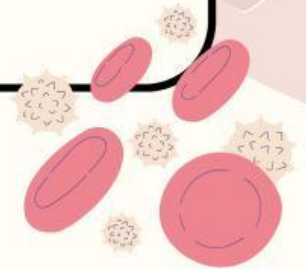
Menganalisis sistem organisasi kehidupan, fungsi, serta kelainan atau gangguan yang muncul pada sistem organ (sistem pencernaan, pernapasan, ekskresi, dan peredaran darah)

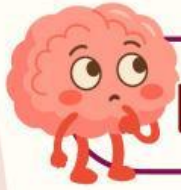
TUJUAN PEMBELAJARAN

1. Melalui kegiatan diskusi pada E-LKPD, peserta didik dapat mengidentifikasi komponen utama sistem peredaran darah manusia dengan benar.
2. Melalui kegiatan diskusi, peserta didik dapat menganalisis organ-organ peredaran darah dengan benar.
3. Melalui kegiatan diskusi peserta didik, dapat Menganalisis proses peredaran darah kecil dan besar serta keterkaitan antara struktur organ dan fungsinya dengan tepat.



Let's Go!





LETS THINK

AYO SIMAK VIDEO PEMBELAJARAN DI BAWAH INI!



Watch video on YouTube

Error 153

Video player configuration error



Setelah kalian melihat video diatas, coba jawab pertanyaan berikut!



Jelaskan fungsi dari darah!

Sebutkan organ/komponen apa saja yang berperan dalam sistem peredaran darah!



LETS PAIR



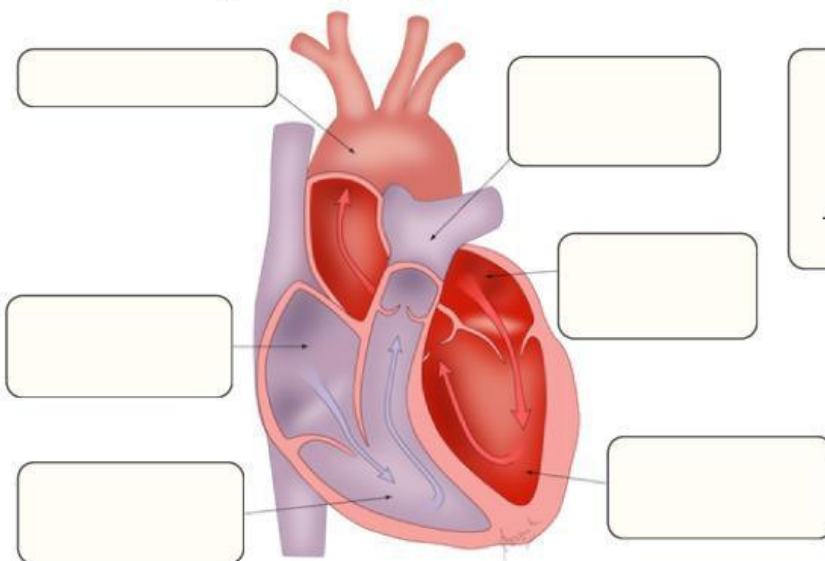
Diskusikan bersama kelompok, lalu jawablah pertanyaan pada LKPD ini!

SEBUTKAN ADA APA SAJA SEL DARAH ? JELASKAN JUGA FUNGSI DARI MASING-MASING !

- fungsi:
- fungsi:
- fungsi:

APA FUNGSI DARI PLASMA DARAH?

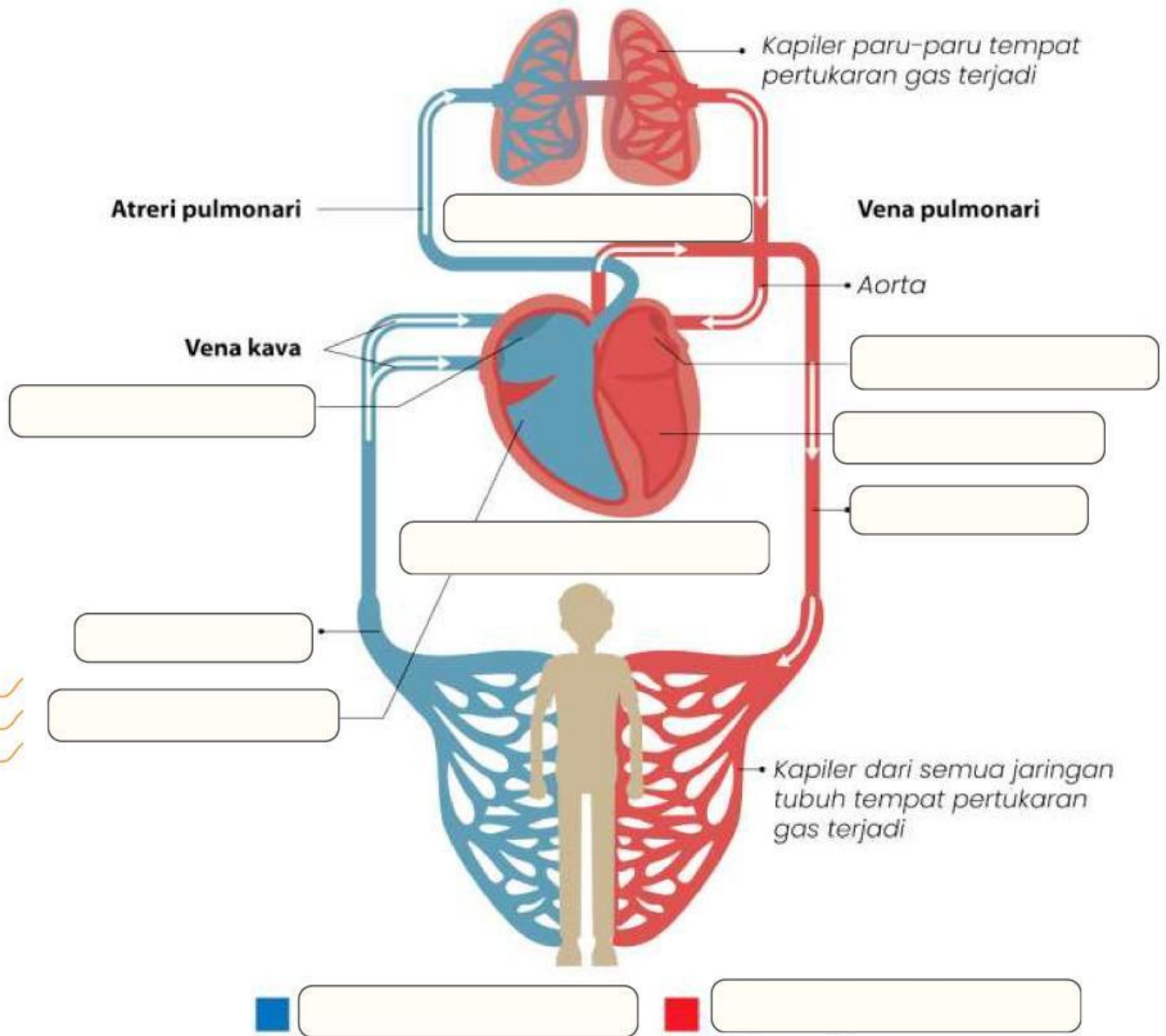
Perhatikan gambar berikut!
isi bagian dari jantung dibawah ini!



APA FUNGSI DARI JANTUNG

SISTEM PEREDARAN DARAH MANUSIA

Perhatikan gambar berikut!
isi bagian dari peredaran darah dibawah ini!



ALUR PEREDARAN DARAH MANUSIA

TULISKANLAH ALUR PEREDARAN DARAH BESAR!

TULISKANLAH ALUR PEREDARAN DARAH KECIL!



LET'S SHARE

presentasikan hasil pengerjaan yang sudah kelompok kerjakan! Lalu tuliskan kesimpulan yang tepat!

KESIMPULAN: