

LKPD

Ilmu Pengetahuan Sosial

Tradisi Keluarga Dan Masyarakat Sekitar

Nama: _____ Kelas: _____








NAMA :

KELAS :

Keragaman Budaya dan Kearifan Lokal

Tradisi dan Budaya Masyarakat di Sekitarku

Isilah titik-titik di bawah ini dengan jawaban yang sesuai!

No	Nama Provinsi	Tarian Daerah	Rumah Adat	Makanan khas
1.	 SUMATERA BARAT		Rumah Gadang	
2.	 YOGYAKARTA			
3.	 BALI	Tari Kecak		
4.	 ACEH			Mie aceh
5.	 KALIMANTAN TIMUR	Tari Gong		



Nama: _____

Kelas: _____

TRADISI KELUARGA DAN MASYARAKAT SEKITAR

Tarik garis untuk mencocokkan kata dengan gambar yang sesuai!

riau



vestival tabuik

sumatera barat



pacu jalur

sumatera selatan



tari saman

bali



upacara ngaben

aceh



pempek

CERITA DARI KAMPUNG HALAMAN

Tradisi Keluarga dan Masyarakat Sekitar

NAMA :

KELAS :

- 1 Kebiasaan atau adat istiadat yang dijalankan dalam masyarakat disebut _____



Perhatikan gambar berikut dengan baik untuk menjawab nomor 2 dan 3!

- 2 Gambar di atas merupakan tradisi yang bernama _____

- 3 Tradisi di atas berasal dari _____

4



- Gambar di samping merupakan tradisi yang bernama _____

- Tradisi di atas berasal dari _____