

# LKPD

## Matematika

### GEOMETRI

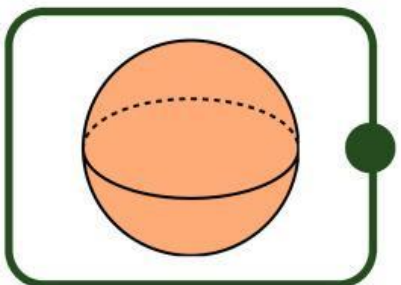
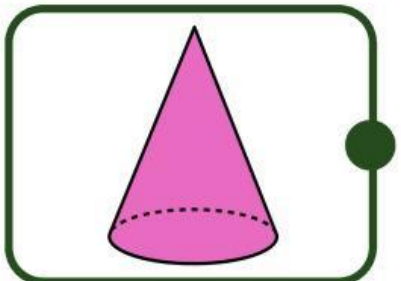
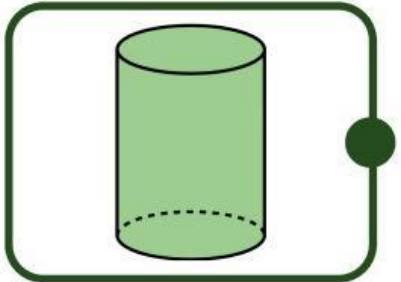
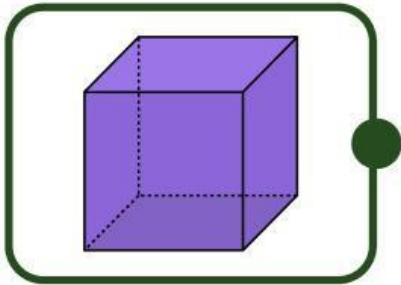
Nama: \_\_\_\_\_

Kelas: \_\_\_\_\_



# Mengenali Bangun Ruang

Hubungkan gambar dengan nama yang sesuai!



TABUNG

BOLA

KUBUS

LIMAS

# Menarik Garis

***Tariklah garis sesuai dengan nama bangun datar!***

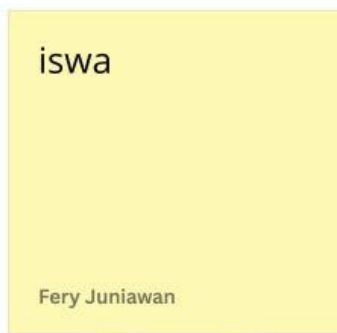


lingkaran



iswa

bintang



Fery Juniawan

persegi panjang



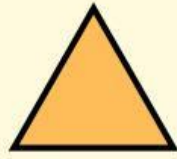
segitiga



persegi




# MENGENAL BANGUN DATAR



segitiga


***Yuk lingkari gambar yang berbentuk segitiga:***





# Bangun Ruang

Perhatikan gambar berikut, lalu tentukan benda tersebut termasuk ke dalam benda berbentuk apa.



---



---



---



---



---



---



---



---



---