


Operasi Hitung
Campuran
Bilangan Bulat



Nama : Fauzianna, S.Pd.SD.
Instansi : SD Negeri 1 Nguneng

Nama :
Kelas :
Nomor :

A. Simak video berikut dan catat hal-hal penting di bukumu!



B. Simak MP3 ini, catat hal penting di bukumu!



C. Jawablah pertanyaan di bawah ini!

Yang paling sulit dari penjelasan di atas adalah

D. Pilihlah jawaban yang benar!

Hasil dari $(-920 + 2.000) : 15 = \dots$

E. Pilihlah jawaban yang benar!

$216 - 144 : (-6) \times 9 + 75 = \dots$

☐ Lima ratus tujuh

☐ Dua belas

☐ Negatif dua belas

☐ Negatif lima ratus tujuh

F. Ketik centang pada jawaban yang benar!

$2.255 : 5 \times (-15) = \dots$

☐ -6.765

☐ 6.765

☐ 7.675

☐ -7.675

G. Tariklah garis dari huruf A/B ke arah kotak pasangannya!

$448 - (-322)$

A. (-576)

$448 + (-212)$


B. 236

$(-48) \times 12$

C. 770

H. Klik/sentuh bilangan, kemudian geser dan lepas di atas garis yang tersedia!

Urutkan nilai bilangan berikut mulai dari yang terkecil !



Urutkan nilai bilangan bulat berikut mulai dari yang terbesar !

