



# LKPD

## MATEMATIKA KELAS 1 MENGENAL BENTUK



**Sub Materi: Mendeskripsikan Benda  
Berdasarkan Bentuk**

Disusun oleh Nurunnajmi Awaliyah  
PGSD FKIP UNISSULA 2025



# KATA PENGANTAR



Puji syukur kepada Allah SWT atas rahmat dan karunia-Nya sehingga LKPD ini dapat disusun dengan baik. LKPD ini dibuat untuk membantu peserta didik kelas 1 SD mempelajari geometri dasar, khususnya mendeskripsikan benda berdasarkan bentuknya.

LKPD ini dilengkapi dengan aktivitas interaktif seperti mewarnai, menulis, dan menggambar agar pembelajaran menjadi lebih menyenangkan dan bermakna.

Semoga LKPD ini dapat memberikan manfaat bagi peserta didik, guru, maupun orang tua.

Semarang, 2 Oktober 2025  
Nurunnajmi Awaliyah,

# DAFTAR ISI



1. Cover.....	1
2. Kata Pengantar.....	2
3. Daftar Isi.....	3
4. Tujuan Pembelajaran.....	4
5. Lembar Kerja Peserta Didik.....	5



# Tujuan Pembelajaran

- Mengenal nama bentuk dasar, yaitu segitiga, segi empat, dan bentuk lengkung.
- Memberi nama bentuk dasar, yaitu segitiga, segi empat, dan bentuk lengkung.





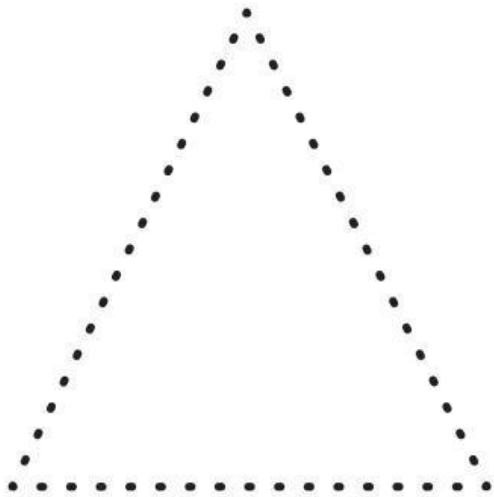
Nama :

Kelas :

# Menghubungkan Titik

## Petunjuk


Tariklah titik titik sehingga membentuk sebuah bentuk dan berilah nama di bawahnya.




# Memasangkan Berdasarkan Nama

## Petunjuk


Pasangkan bentuk dan namanya.




Segi tiga



Segi Empat






Bentuk  
lengkung



# Memasangkan Bentuk yang Sama

## Petunjuk

Pasangkan yang bentuknya sama.



# Mengamati Bentuk Pada Gambar

## Petunjuk

1. Amati benda pada gambar kelas di bawah ini.
2. Lingkari benda yang berbentuk lengkung dengan warna merah.
3. Lingkari benda yang berbentuk segitiga dengan warna biru.
4. Lingkari benda yang berbentuk segi empat dengan warna hijau.

