



# LEMBAR KERJA PESERTA DIDIK (LKPD)

## POSISI BENDA

Matematika Kelas II SD



Kelompok : \_\_\_\_\_

Anggota :


---

---

---

---

---



## IDENTITAS

Penyusun	: Maharani Eka Putri
Instansi	: SD Negeri
Tahun Penyusunan	: 2025/2026
Jenjang Sekolah	: SD
Mata Pelajaran	: Matematika
Fase/Kelas:	: A/2 (Dua)
Alokasi Waktu	: 1 kali pertemuan/2x35 menit

## TUJUAN PEMBELAJARAN

1. Peserta didik dapat mengidentifikasi posisi suatu benda terhadap benda lain.
2. Peserta didik dapat menjelaskan alasan mengapa suatu benda berada pada posisi tertentu.
3. Peserta didik dapat menganalisis letak beberapa benda untuk menentukan posisi masing-masing benda dengan benar.
4. Peserta didik dapat menerapkan konsep posisi benda dalam konteks kehidupan sehari-hari

## **PETUNJUK Pengerjaan**


1. Berdoa sebelum mengerjakan lembar soal.
2. Isilah identitas seperti nama dan kelas.
3. Bacalah setiap perintah pada LKPD dengan teliti sebelum mengerjakan.
4. Perhatikan gambar-gambar yang tersedia pada setiap bagian.
5. Ikuti setiap perintah yang ada pada setiap kegiatannya.
6. Tuliskan jawaban yang benar pada kolom yang telah disediakan.
7. Jika ada yang tidak dipahami, silahkan bertanya pada guru.
8. Mulailah mengerjakan LKPD ini dengan sungguh-sungguh.
9. Periksa kembali jawabanmu sebelum dikumpulkan.

# Posisi Benda di Sekitar

Amati dan Lingkari/pilih kata yang menunjukkan posisi bola terhadap benda yang ada dengan tepat!




Bola diletakkan di \_\_\_\_\_ meja.  
**atas      bawah**



Bola diletakkan di \_\_\_\_\_ meja.  
**atas      bawah**



Bola diletakkan di \_\_\_\_\_ kardus.  
**kanan      kiri**



Bola diletakkan di \_\_\_\_\_ kardus.  
**kanan      kiri**



Bola diletakkan di \_\_\_\_\_ kursi.  
**depan      belakang**



Bola diletakkan di \_\_\_\_\_ kursi.  
**depan      belakang**



# Menentukan Posisi Benda

Perhatikan gambar dibawah ini!



Lengkapi kalimat berikut dengan kata yang ada untuk menunjukkan posisi benda berdasarkan gambar.

Setiap kata hanya boleh digunakan satu kali.

depan

belakang

kanan

kiri

1. Sepeda berada di \_\_\_\_\_ pohon.
2. Pohon berada di sebelah \_\_\_\_\_ rumah.
3. Mobil berada di sebelah \_\_\_\_\_ rumah.
4. Pot bunga berada di \_\_\_\_\_ kursi.

# Menentukan Posisi Benda

Perhatikan gambar dibawah ini!



Lengkapi kalimat berikut dengan kata yang ada untuk menunjukkan posisi benda berdasarkan gambar.

Setiap kata hanya boleh digunakan satu kali.

lemari

lampu

buku

tas

1. Di sebelah kanan sofa ada \_\_\_\_\_
2. Di belakang buku ada \_\_\_\_\_
3. Di sebelah kiri laptop ada \_\_\_\_\_
4. Di depan sofa ada \_\_\_\_\_

# Membuat Kalimat Posisi Benda

Perhatikan gambar di bawah ini, kemudian buatlah kalimat pernyataan yang sesuai!



Contoh:

1. Bola berada di bawah meja.

2. \_\_\_\_\_

3. \_\_\_\_\_

4. \_\_\_\_\_

5. \_\_\_\_\_