

Nama :

Kelas :

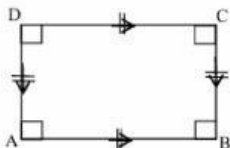
A. Soal PG

1. Berapakah hasil dari 12×2 ?
a. 22 b. 24 c. 26 d. 28
2. Hasil dari 24×2 ?
a. 12 b. 58 c. 38 d. 48
3. Sebutkan rumus luas persegi panjang ?
a. $L = p \times l$ b. $L = 2(p \times l)$ c. $L = p + l$ d. $L = 2(p+l)$
4. Sebuah meja berbentuk persegi panjang memiliki panjang 3 meter dan lebar 2 meter. Berapa keliling meja tersebut?
A. 8 meter B. 10 meter C. 12 meter D. 14 meter
5. Luas sebuah taman berbentuk persegi panjang adalah 240 m^2 , dengan panjang 20 meter. Berapa lebar taman tersebut?
A. 12 meter B. 14 meter C. 16 meter D. 18 meter

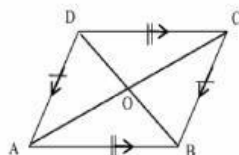
B. Isian singkat

1. segi empat yang memiliki dua pasang ruas garis yang sejajar dan keempat sudutnya siku siku adalah ...
2. segi empat yang memiliki dua pasang ruas garis yang sejajar adalah ...

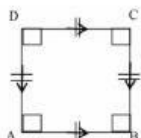
C.



Persegi



Persegi panjang



Jajargenjang