


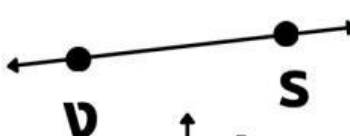




























# เส้นตรง ส่วนของเส้นตรง รังสี

จงจับคู่ให้ถูกต้อง

			$\overrightarrow{KB}$
			$\overleftrightarrow{GS}$
			$\overline{PU}$
			$\overline{NY}$
			$\overline{NY}$
			$\overrightarrow{KB}$
			$\overline{GS}$
			$\overline{GS}$
			$\overline{PU}$
			$\overline{BK}$