



LEMBAR KERJA PESERTA DIDIK

Kelas :

Kelompok :

Anggota :

“ Sumber Energi Terbarukan dan Energi Tak Terbarukan”

1. Orientasi

Perhatikan dua gambar berikut



Tahukah kamu bahwa satu panel surya diatas rumah bisa menghemat ratusan ribu rupiah perbulan? Dimasa depan, kita akan lebih bergantung pada energi ramah lingkungan, karena energi fosil makin lama makin menipis dan mencemari lingkungan. Nah apa saja jenis energi terbarukan dan tak terbarukan?

2. Pengumpulan Data

Agar lebih memahami materi, simaklah video berikut.













Bahan Ajar





Setelah menyimak video diatas, silahkan lengkapi tabel berikut
Tuliskan jenis sumber energi berdasarkan gambar.

No	Sumber energi terbarukan	Sumber Energi Tak terbarukan
1		
2		
3		
4		
5		





3. Kesimpulan

Tuliskan kesimpulan berdasarkan informasi yang dipelajari

...

