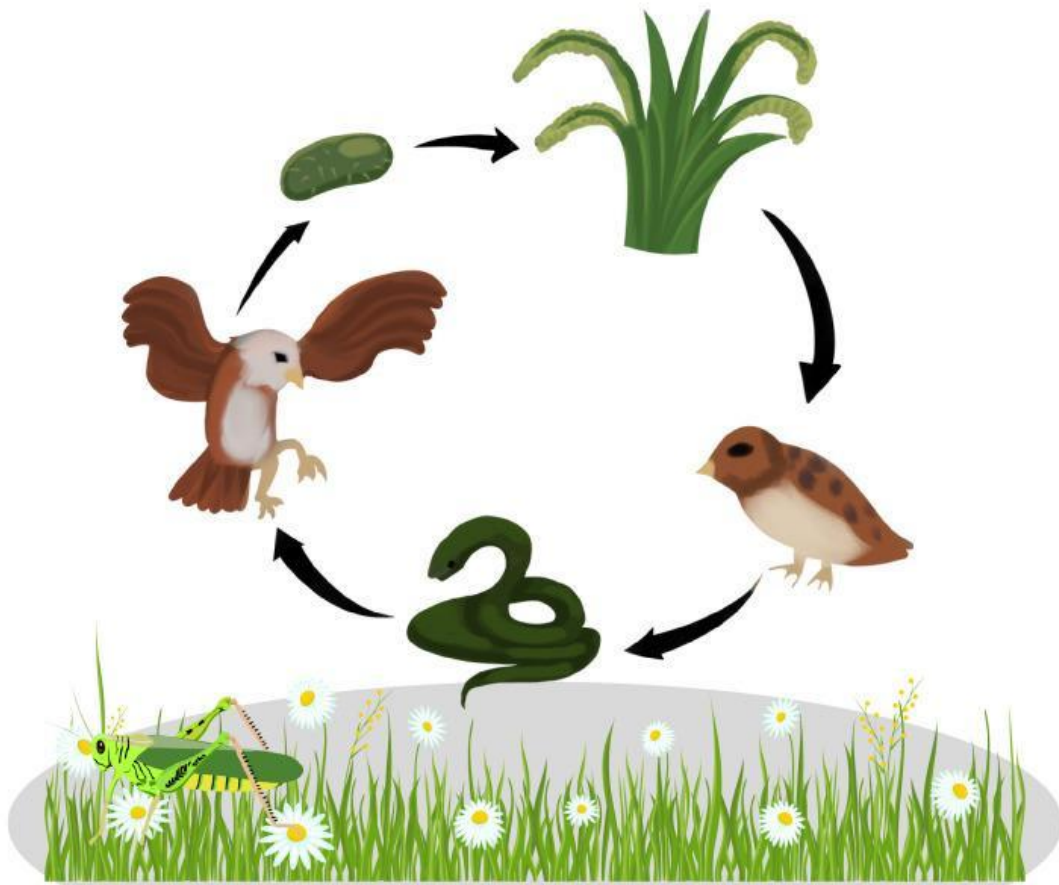


# LKPD

## Memakan dan Dimakan



Nama Kelompok:

---

---

---

Kelas

:


---



## LEMBAR KERJA RANTAI MAKANAN DALAM EKOSISTEM

### Bagian A. Memberi Label pada Gambar

Perhatikan gambar rantai makanan di bawah ini, beri label pada setiap makhluk berdasarkan perannya!

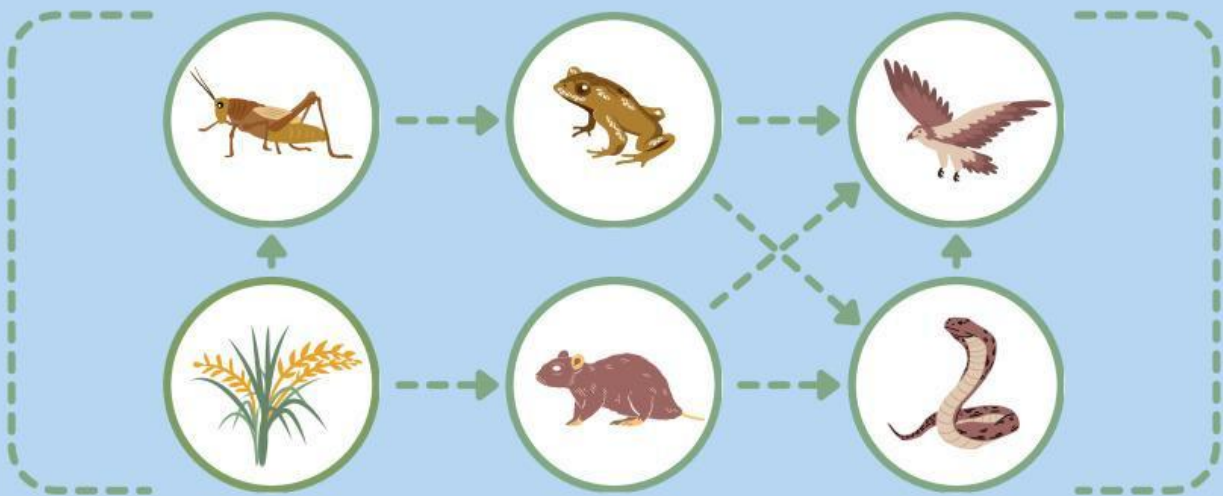


### Bagian B. Pertanyaan Esai Singkat

1. Jelaskan mengapa tumbuhan disebut sebagai produsen dalam rantai makanan. Sertakan proses yang terjadi!
2. Apa yang terjadi jika salah satu makhluk hidup dalam rantai makanan tersebut punah? Berikan penjelasan berdasarkan hubungan antar makhluk hidup dalam ekosistem!

# Menganalisis Dampak Ketidakseimbangan Ekosistem

Perhatikan gambar jaring-jaring makanan di sawah di bawah ini!



Selidikilah masalah yang terjadi di bawah ini dan tuliskan apa dampaknya pada jaring-jaring makanan di sawah.

Perburuan elang untuk  
diperjualbelikan.

---

---

---

---

Perburuan katak untuk  
dijadikan makanan.

---

---

---

---

Penggunaan pupuk berlebihan  
sehingga merusak tanah.

---

---

---

---

Pembangunan rumah di  
lahan tempat tinggal ular.

---

---

---

---