



Kurikulum
Merdeka

LKPD MATEMATIKA

**CIRI-CIRI BANGUN DATAR SEGI BANYAK
(SEGI LIMA, SEGI ENAM, TRAPESIUM)**

Disusun oleh : Ghefira Kurnia






Untuk Siswa Sekolah Dasar

Tema: Mengenal Bangun Datar

Nama: _____ Kelas: _____

Ciri-ciri Bangun Datar

Tuliskan Nama dan Ciri-Ciri Bangun Datar Di Bawah ini!

Gambar Bangun	Nama Bangun	Banyak Sudut	Banyak Sisi
			
			
			

Tema: Mengenal Bangun Datar

Nama: _____ Kelas: _____

Ciri-ciri Bangun Datar

Hubungkan gambar dengan ciri-cirinya.



Memiliki lima sudut
yang sama besarnya



Memiliki enam sisi
yang sama panjang.



Memiliki empat sisi
(dua sisi yang saling
sejajar).