


Suma las frutas y verduras


Instrucciones: Resuelve correctamente las siguientes operaciones. Usa el ejemplo como referencia.

1




$2 + 1 = 3$

2




$__ + __ = __$

3



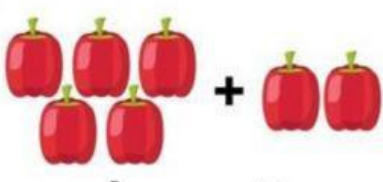
$__ + __ = __$

4




$__ + __ = __$

5




$__ + __ = __$

6




$__ + __ = __$

7



$__ + __ = __$

8



$__ + __ = __$

www.edumaterial.com

Imprime este archivo solo si es necesario. Si lo haces, procura utilizar papel reciclado.