


# LKPD

## BANGUN RUANG SISI DATAR

Perhatikan Video Berikut ini!



Perhatikan Materi Presentasi berikut:



4

**TEKSFIELD**

Bangun ruang sisi datar yang lima sisi, sembilan rusuk dan 6 titik sudut disebut ...

5

**SINGLE CHOICE**

Bangun ruang sisi datar yang hanya memiliki 7 sisi, 15 rusuk dan 10 titik sudut disebut

6

**CHECKBOXES**

Yang merupakan bagian dari bangun ruang sisi datar adalah :

<input type="checkbox"/>	KUBUS	<input type="checkbox"/>	PRISMA
<input type="checkbox"/>	TABUNG	<input type="checkbox"/>	LIMAS

7

**SELECT**

Yang merupakan bagian dari bangun ruang sisi Lengkung adalah :

<input type="checkbox"/>	KUBUS	<input type="checkbox"/>	TABUN	<input type="checkbox"/>	LIMAS	<input type="checkbox"/>	PRISMA
--------------------------	-------	--------------------------	-------	--------------------------	-------	--------------------------	--------

8

**WORD SEARCH**

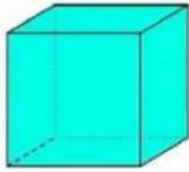
CARI KATA YANG BERKAITAN DENGAN BANGUN RUANG

L	K	L	P	H	K	V	B
I	K	U	B	U	S	P	A
M	G	H	L	K	J	R	L
G	B	H	I	S	S	I	O
S	V	D	M	G	H	S	K
A	D	A	A	B	A	M	I
K	F	D	S	U	T	A	R
E	W	A	V	E	R	A	C

9

### SPEAK

sebutkan nama Bangun ruang berikut ini dengan tepat



1

### LISTENING


Dengarkan Suara berikut dan tuliskan jawabannya



1

### Drag and Drop

Pindahkan Bangun ruang di samping ke Kotak yang telah disediakan dengan Tepat!



Prisma Segitiga

Limas Segiempat

Limas Segitiga

1

### JOIN AND ARROW

Tarik garis untuk memasangkan bentuk bangun ruang dan nama bangun ruang dibawah ini!



PRISMA SEGITIGA



LIMAS SEGITIGA



BALOK

LIMAS SEGIEMPAT