




Escola Municipal Rodolf Mikel Ghannam  
Anos iniciais \_ 3º ano “\_\_\_” - Turno: Mat ( ) Vesp ( )  
Professora: .....  
Estudante: .....

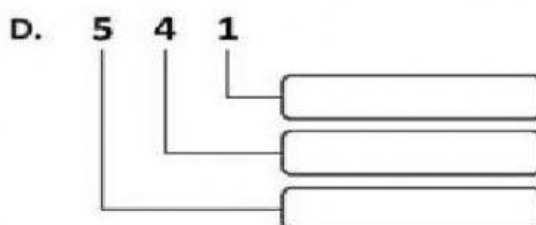
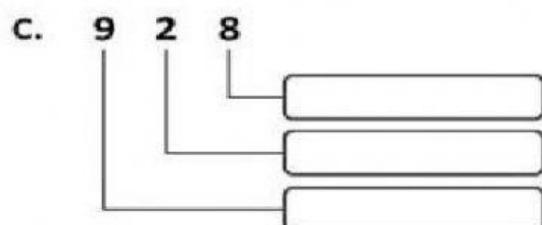
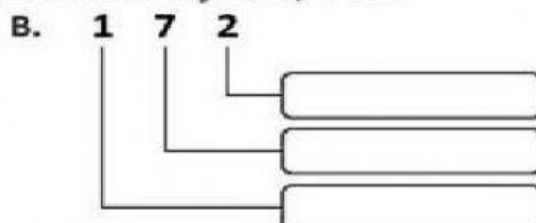
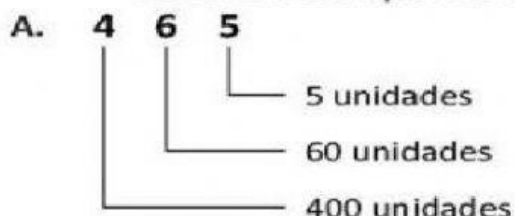


## MATEMÁTICA

### ATIVIDADES



Observe o exemplo A e complete as situações B, C e D.



No lanche do recreio, algumas crianças comeram bolachas e outras pão de queijo. Observe a tabela que representa o que cada uma comeu e as quantidades:

	João	Marta	Jorge	Bruno	André	Isabel
bolachas	0	0	2	0	3	0
pão com queijo	1	2	0	2	0	2

As crianças comeram mais bolachas ou pão de queijo?

\_\_\_\_\_

O que se consumiu em maior quantidade, bolachas ou pão com queijo?

\_\_\_\_\_

Qual foi a diferença entre o consumo de bolacha se de pão com queijo?

\_\_\_\_\_